

注意：
因以下项目填写不清
而影响成绩责任自负
准考证号

--	--	--	--	--	--	--	--	--	--	--	--	--	--	--	--	--	--	--	--

姓名

--	--	--	--	--	--	--	--	--	--	--	--	--	--	--	--	--	--	--	--

考试

地点

_____ 考场 _____ 号

归属

区县

(领准考证的区县)

(密
封
线
内
不
要
答
题)

2005 年北京市应届毕业生公务员录用考试

《行政职业能力测验》试题

说明

这项测验共有五个部分，135 道题，总时限为 120 分钟。各部分不分别计时，但都给出了参考时限，供你参考以分配时间。

请在机读答题卡上严格按照要求填写好自己的姓名、报考部门，涂写准考证号。

请仔细阅读下面的注意事项，这对你获得成功非常重要：

1. 题目应在答题卡上作答，不要在题本上作任何记号。
2. 监考人员宣布考试开始时，你才可以开始答题。
3. 监考人员宣布考试结束时，你应立即放下铅笔，将试题本、答案卡和草稿纸都留在桌上，然后离开。

如果你违反了以上任何一项要求，都将影响你的成绩。

4. 在这项测验中，可能有一些试题较难，因此你不要在一道题上思考时间太久，遇到不会答的题目，可先跳过去，如果有时间再去思考。否则，你可能没有时间完成后面的题目。

5. 试题答错不倒扣分。

6. 特别提醒你注意，涂写答案时一定要认准题号。严禁折叠答题卡！

第一部分 数量关系

(共 25 题，参考时限 20 分钟)

得分	评卷人

一、数字推理 (本部分包括两种类型的题目，共 10 题)。

(一) 每题给你一个数列，但其中缺少一项，要求你仔细观察数列的排列规律，然后从四个供选择的选项中选出你认为最合理的一项，来填补空缺项。

【例题】1, 3, 5, 7, 9, ()

A. 7

B. 8

C. 11

D. 未给出

【解答】正确答案是 11，原数列是一个奇数数列，故应选 C。

请开始答题：

1. 6, 7, 3, 0, 3, 3, 6, 9, 5, ()
 A. 4 B. 3 C. 2 D. 1

2. 12, 13, 16, 25, 52, ()
 A. 81 B. 93 C. 133 D. 146

下面各列算式分别按一定规律排列, 请分别求出它们的第 40 个算式。

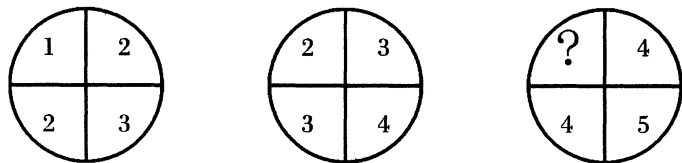
3. $39 - 1, 38 + 2, 37 - 3, 36 + 1, 35 - 2, 34 + 3, \dots$ ()
 A. $1 - 1$ B. $-1 - 1$ C. $0 - 1$ D. $0 + 1$

4. $1 \times 3, 2 \times 2, 1 \times 1, 2 \times 3, 1 \times 2, 2 \times 1, 1 \times 3, \dots$ ()
 A. 1×3 B. 2×3 C. 3×1 D. 2×1

5. $1 + 1, 2 + 3, 3 + 5, 1 + 7, 2 + 9, 3 + 11, 1 + 13, \dots$ ()
 A. $1 + 83$ B. $1 + 81$ C. $1 + 79$ D. $1 + 77$

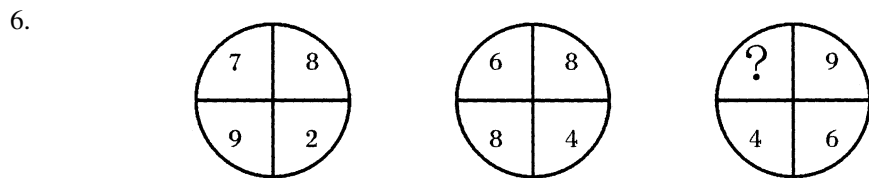
(二) 每题图形中的数字都包含一定的规律, 请你总结前两个图形中数字的规律, 从四个选项中选出你认为问号应该代表的数字。

【例题】

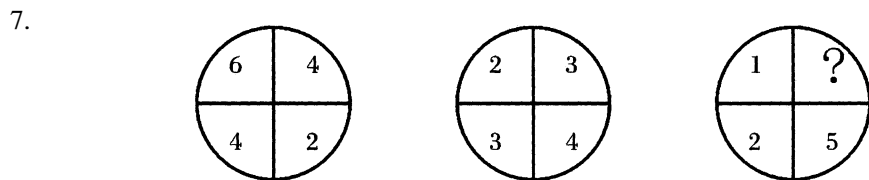


A. 1 B. 2 C. 3 D. 4

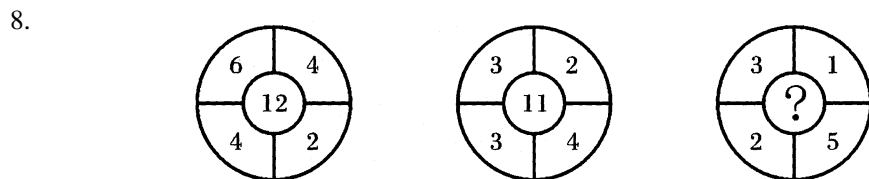
【解答】 正确答案是 3, 根据前两个图形, 可以看出规律为: $1 + 3 = 2 + 2$; $2 + 4 = 3 + 3$; 因此? $+ 5 = 4 + 4$ 。所以答案为 C。



A. 5 B. 4 C. 3 D. 2



A. 2 B. 3 C. 4 D. 5



A. 14 B. 12 C. 5 D. 3

密

封

线

内

不

要

答

题

密

封

线

内

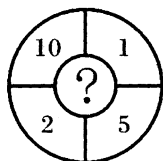
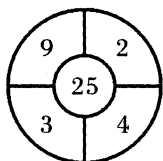
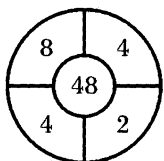
不

要

答

题

9.



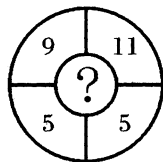
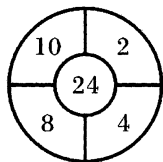
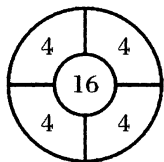
A. 52

B. 25

C. 18

D. 15

10.



A. 20

B. 30

C. 61

D. 110

得分	评卷人

二、数学运算（你可以在题本上运算，遇到难题，你可以跳过不做，待你有时间再返回来做，本部分包括 15 题。）

【例题】84.78 元、59.50 元、121.61 元、12.43 元以及 66.50 元的总和是（ ）。

A. 343.73

B. 343.83

C. 344.73

D. 344.82

【解答】正确答案为 D。实际上你只要把最后一位小数加一下，就会发现和的最后一位数是 2，只有 D 符合要求。就是说你应当动脑筋想出解题的捷径。

请开始答题：

11. $(1.1)^2 + (1.2)^2 + (1.3)^2 + (1.4)^2$ 的值是（ ）。

A. 4.98

B. 5.49

C. 6.06

D. 6.30

12. 直线 $2X - Y + 4 = 0$ 与 X 轴的哪一点相交？（ ）

A. 4

B. 2

C. 0

D. -2

13. 200 的 5% 的 5% 是（ ）。

A. 50

B. 5

C. 0.5

D. 2

14. 某铁路线上有 25 个大小车站，那么应该为这条路线准备多少种不同的车票？（ ）

A. 625

B. 600

C. 300

D. 450

15. 王方将 5 万元存入银行，银行利息为 1.5%/年，请问 2 年后，他的利息是多少？（ ）

A. 1500 元

B. 1510 元

C. 1511 元

D. 1521 元

16. 减数、被减数与差三者之和除以被减数，商是多少？（ ）

A. 0

B. 1

C. 2

D. 减数与差之和

17. 甲、乙两数之和加上甲数是 220，加上乙数是 170，甲、乙两数之和是多少？（ ）

A. 50


B. 130

C. 210

D. 390

18. 商店里有六箱货物，分别重 15、16、18、19、20、31 千克，两个顾客买走了其中五箱。已知一个顾客买的货物重量是另一个顾客的 2 倍。商店剩下的一箱货物重多少千克？（ ）

- A. 16 B. 18 C. 19 D. 20
19. 一个三位数,各位上的数的和是15,百位上的数与个位上的数的差是5,如颠倒百位与个位上的数的位置,则所成的新数是原数的3倍少39。求这个三位数。()
- A. 196 B. 348 C. 267 D. 429
20. 一间长250米、宽10米、高4米的仓库放置了1000个棱长为1米的正方体箱子,剩余的空间为多少立方米?()
- A. 0 B. 1500 C. 5000 D. 9000
21. 现有甲、乙两个水平相当的技术工人需进行三次技术比赛,规定三局两胜者为胜方。如果在第一次比赛中甲获胜,这时乙最终取胜的可能性有多大?()
- A. $1/2$ B. $1/3$ C. $1/4$ D. $1/6$
22. 甲、乙两车从A、B两地同时出发,相向而行。如果甲车提前一段时间出发,那么两车将提前30分相遇。已知甲车速度是60千米/时,乙车速度是40千米/时。那么,甲车提前了多少分出发?()
- A. 30 B. 40 C. 50 D. 60
23. 若干个同学去划船,他们租了一些船,若每船4人则多5人,若每船5人则船上有4个空位,共有多少个同学?()
- A. 17 B. 19 C. 26 D. 41
24. 49名探险队员过一条小河,只有一条可乘7人的橡皮船,过一次河需3分钟。全体队员渡到河对岸需要多少分钟?()
- A. 54 B. 48 C. 45 D. 39
25. 某工人用直径为50毫米的废铁片冲制垫圈,每块铁片冲4个相同的垫圈,试问垫圈的最大直径是多少毫米?()
- A. 20.3 B. 20.5
C. 20.7 D. 20.9



第一部分结束,请继续做第二部分!

第二部分 判断推理

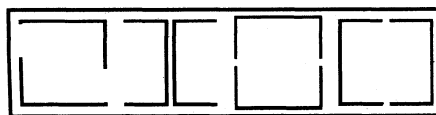
(共30题,参考时限30分钟)

本部分包括四种类型的题目:

得分	评卷人

一、图形推理(共5题,每道题包含两套图形和可供选择的4个图形。这两套图形具有某种相似性,也存在某种差异。要求你从四个选项中选择你认为最适合取代问号的一个。正确的答案应不仅使两套图形表现出最大的相似性,而且使第二套图形也表现出自己的特征。)

【例题】

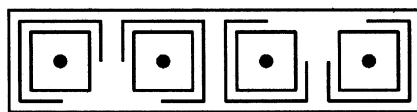


A B C D

【解答】 正确答案为 D。因为只有 D 能使两套图形具有相似性，仅仅元素不同，一个是半圆，一个是半个正方形，但两组图形中元素的排列规律完全相同。

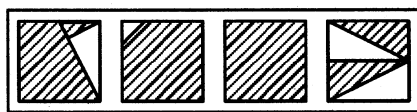
请开始答题：

26.




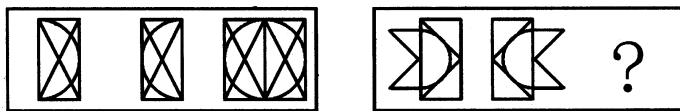
A B C D

27.



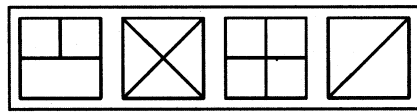
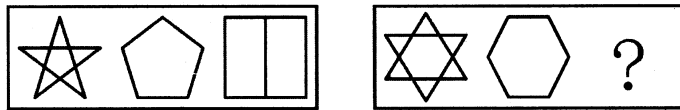
A B C D

28.



A B C D

29.



A B C D

密

封

线

内

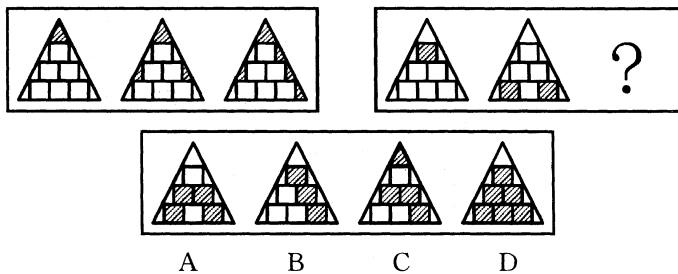
不

要

答

题

30.



得分	评卷人

二、演绎推理（共 10 题，每题给出一段陈述，这段陈述被假设是正确的，不容置疑的。要求你根据这段陈述，选出一个答案。注意，正确的答案应与所给的陈述相符合，不需要任何附加说明即可以从陈述中直接推出。）

【例题】某厂有五种产品：甲、乙、丙、丁、戊。它们的年销售额之间的关系为：丙没有丁高，甲没有乙高，戊不比丁低，而乙不如丙高。

请问，哪种产品的年销售额最高？（ ）

- A. 甲 B. 乙 C. 丁 D. 戊

【解答】从所给条件可以知道：戊 > 丁 > 丙 > 乙 > 甲。因此，正确答案为 D。

请开始答题：

31. 秘书对张强说：“你的方案很好，我认为董事们都会赞同。”过一会儿，她又说：“没有哪一个董事不会不赞同的。”可以看出（ ）。
- A. 秘书赞同张强的方案 B. 董事们赞同张强的方案
C. 董事们反对张强的方案 D. 秘书的话前后矛盾
32. 对过去十年世界男女马拉松最佳成绩分析显示：女子记录的进步 7 倍于男子记录，然而，最快的男子马拉松选手仍比最快的女子马拉松选手快许多。由此可以推知（ ）。
- A. 对男子马拉松选手的训练水平尚需提高
B. 女子马拉松选手的发展潜力比男子马拉松选手大
C. 当前女子马拉松的记录比十年前男子马拉松的记录快
D. 十年前女子马拉松的记录是男子的 7 倍多
33. 某人在一封信中这样写道：“前些年我在曼彻斯特看见过鸭嘴兽的蛋，因而无知地嘲笑过哺乳动物会下蛋的这种愚蠢之见，现在终于被证实了”，从信中可以看出写信人以前错误地认为（ ）。
- A. 鸭嘴兽不会下蛋 B. 有的哺乳动物不会下蛋
C. 鸭嘴兽不是哺乳动物 D. 只有哺乳的动物才是哺乳动物
34. 哥白尼的“日心说”与当时的宗教思想、占统治地位的亚里士多德物理学以及人们的“常识”均相抵触，一开始遭到许多人的反对，直到牛顿发现万有引力定律之后，才逐步被天文学家们承认。
- 由此不能推出的是（ ）。
- A. 亚里士多德的物理学并不“科学”
B. 牛顿的发现支持哥白尼的观点

密

封

线

内

不

要

答

题

密

封

线

内

不

要

答

题

- C. 当时的宗教思想将太阳看得神圣无比
D. 人们曾经认为“太阳围着地球转”
35. 挑出推理有错误的一项 ()。
- A. 居住在热带地区的人的皮肤一般都比较黝黑, 马来人大部分居住在热带地区, 所以较多马来人的皮肤都较黑
B. 病毒都需要侵入到细胞中进行复制和繁殖。这种病原体侵入到了细胞中, 所以它是一种病毒
C. 植物利用阳光中的能量在体内制造自己所需的养分, 而动物则最终必须依赖植物的营养生存, 所以说“万物生长靠太阳”
D. 企鹅虽是鸟类但不会飞, 居住在新西兰的仙企鹅自然也是只会旅游不会飞了
36. 某厂质量检验科对五个生产小组的产品质量进行检查, 其结果如下: 丁组的产品合格率高于丙组; 乙组不合格产品中完全报废的产品比戊组多; 甲组的产品合格率最低; 丙组与乙组的产品合格率相同。由此可以推出 ()。
- A. 丁组与戊组的产品合格率相同 B. 甲组的产品中完全报废的较多
C. 丁组的产品合格率最高 D. 乙组的产品合格率低于丁组
37. 爱因斯坦提出的广义相对论认为: 由于有物质的存在, 空间和时间会发生弯曲, 而引力场实际上是一个弯曲的时空, 爱因斯坦认为太阳是一个大引力场, 遥远的星光如果掠过太阳表面, 将会发生 1.7 秒的偏转。这一预言最终得到了天文观测的证实, 由此不能推出 ()。
- A. 星光距离太阳越近所受影响越大
B. 星光的偏转度与太阳引力的大小有关
C. 广义相对论是根据天文观测提出的
D. 科学给许多不可思议的现象以合理解释
38. 曙光机械厂、华业机械厂、祥瑞机械厂都在新宁市辖区。它们既是同一工业局下属的兄弟厂, 又是市场上的竞争对手。在市场需求的五种机械产品中, 曙光机械厂擅长生产产品 1、产品 2 和产品 4, 华业机械厂擅长生产产品 2、产品 3 和产品 5, 祥瑞机械厂擅长生产产品 3 和产品 5。如果两个厂生产同样的产品, 一方面是不经济, 另一方面是会产生恶性竞争。如果一个厂生产三种产品, 在人力和设备上也有问题。为了发挥好地区经济合作的优势, 工业局召集三个厂的领导对各自生产的产品作了协调, 提出最佳方案。以下哪项最可能是这几个厂的生产方案? ()
- A. 曙光机械厂生产产品 1 和产品 2, 华业机械厂生产产品 3 和产品 5
B. 华业机械厂生产产品 2 和产品 3, 祥瑞机械厂只生产产品 4
C. 华业机械厂生产产品 2 和产品 5, 祥瑞机械厂生产产品 3 和产品 4
D. 祥瑞机械厂生产产品 3 和产品 5, 华业机械厂只生产产品 2
39. 学校抗洪抢险献爱心捐助小组突然收到一大笔没有署名的捐款, 经过多方查找, 可以断定是赵、钱、孙、李中的一个人捐的。经询问, 赵说: “不是我捐的”; 钱说: “是李捐的”; 孙说: “是钱捐的”; 李说: “我肯定没有捐。” 最后经过详细调查证实四个人中只有一个人说的是真话。

根据以上已知条件,请判断下列哪项为真()。

- A. 赵说的是真话,是孙捐的
B. 李说的是真话,是赵捐的
C. 钱说的是真话,是李捐的
D. 李说的是假话,是李捐的
40. 某公司的销售部有五名工作人员,其中有两名本科专业是市场营销,两名本科专业是计算机,一名本科专业是物理学。又知道五人中有两名女士,她们的本科专业背景不同。

根据上文所述,以下哪项推论最可能成立?()

- A. 该销售部有两名男士是来自不同本科专业的
B. 该销售部的一名女士一定是计算机本科专业毕业的
C. 该销售部三名男士来自不同的本科专业,女士也来自不同的本科专业
D. 该销售部至多有一名男士是市场营销专业毕业的

得分	评卷人

三、事件排序(共5题。在回答问题时,要根据自己的一般知识和对事件间的逻辑关系的理解做些补充或合理的假设,以填补缺欠的信息。)

每道题给出五个事件,每个事件是以简短语句表述的,接着给出四种假定发生顺序的数字序列,请你选择其中最合乎逻辑的一种事件顺序。注意要以最少的假设来联系和安排这五个事件的发生顺序。

- 【例题】(1) 收集书籍 (2) 购买材料
(3) 打造书架 (4) 雇用木工
(5) 排列书籍

- A. 4—3—1—2—5
B. 1—4—2—3—5
C. 4—3—2—1—5
D. 3—2—1—5—4

【解答】此题正确答案为 B: 收集书籍(1)—雇用木工(4)—购买材料(2)—打造书架(3)—排列书籍(5),这一顺序相对于其他顺序而言最合理。

请开始答题:

41. (1) 进行跨省“征婚” (2) 生态环境被破坏
(3) 近亲繁殖 (4) 交配成功
(5) 数量急剧下降
A. 5—2—4—3—1
B. 3—5—2—4—1
C. 2—3—5—4—1
D. 2—5—3—1—4
42. (1) 看见村民从远处背水 (2) 挖出一口甜水井
(3) 得到水利专家的支持 (4) 庄稼得到灌溉
(5) 发现一片草长得特别好
A. 1—5—3—2—4
B. 1—3—2—4—5
C. 5—3—2—1—4
D. 5—2—3—1—4
43. (1) 预订车票 (2) 发生交通事故
(3) 登上飞机 (4) 到外地开会
(5) 没赶上火车
A. 3—4—1—5—2
B. 1—2—5—4—3

密

封

线

内

不

要

答

题

密

封

线

内

不

要

答

题

C. 4—1—2—5—3

44. (1) 鲜花摆上货架
(3) 建造玻璃暖房
(5) 修剪花枝

A. 4—3—2—5—1

C. 4—1—2—3—5

45. (1) 被竞争对手起诉
(3) 和对手谈判
(5) 得知商标被抢注

A. 2—5—3—4—1

C. 5—2—4—1—3

D. 1—3—5—2—4

- (2) 给花浇水
(4) 市场调查

B. 4—5—1—3—2

D. 1—4—3—2—5

- (2) 产品投放市场
(4) 受到很大损失

B. 2—1—5—3—4

D. 5—4—3—1—2

得分	评卷人

四、定义判断(共10道题,每道题中都给出了一个概念的定义,请你根据这个定义,从四个备选的事物或行为中选出一个最为符合或最不符合该定义的典型事物或行为。注意:在这项测验中,本定义被假定为正确的,不容置疑的。)

46. 社会救助是国家对无生活收入来源的寡残孤独、遭受天灾人祸而使生活一时变得困难的家庭和个人、生活在国家规定最低贫困线以下的社会成员提供的生存保障制度。

下列选项中属于社会救助的是()。

- A. 对上学困难的青少年提供帮助的“希望工程”
B. 单位为从事危险工作的职工提供工伤保险
C. 为残废军人提供抚恤金
D. 供养“五保”人员

47. 内部行政行为是指行政主体在内部行政组织管理过程中所作的只对行政组织内部产生法律效力的行政行为。

下列行为中属于内部行政行为的是()。

- A. 某区教育局向市规划局申请分配住房
B. 某行政机关为其机关的公务员分配住房
C. 某公安机关对某市政府公务员的嫖娼行为给予处罚
D. 某行政机关对其公务员的违法违纪行为进行处分

48. 国家行政管理是指国家行政机关,依法对国家和社会公共事务进行管理时应承担的职责和所具有的功能。

下列选项中不属于国家行政管理范畴的政策是()。

- A. 社会分配政策
B. 外资政策
C. 环境政策
D. 人口政策

49. 信用卡诈骗罪是指违反有关信用卡管理规定,采取使用伪造或作废的信用卡、冒用他人信用卡或者恶意透支等方式,诈骗公私财务,数额较大的行为。

下列行为不属于信用卡诈骗罪的是()。

- A. 刘某领取长城信用卡后一直多取少存,高额透支10万余元后外逃

- B. 王某在某宾馆拾到一张万事达信用卡后，冒用卡主的名义在该宾馆消费 5 万余元
- C. 秦某趁邻居不备之际，进入其家中拿走信用卡，并消费 5 万余元
- D. 赵某利用工作之便伪造了多张信用卡，并利用这些信用卡进行高额消费
50. 直接投资是指境内投资主体在境外以现金、实物、无形资产等方式投资，并以控制国（境）外企业的经营管理权为核心的经济活动。
在国际投资中，不属于直接投资的行为是（ ）。
- A. 购买其他国家的债券
- B. 收购或兼并被投资国的企业
- C. 与当地投资人建立合资企业
- D. 独自在被投资国开办新企业
51. 政府的经济管理职能是指政府为国家经济的稳定和发展，对社会经济生活进行管理的职能。
下列行为属于政府的经济管理职能的是（ ）。
- A. 保持总量平衡
- B. 向各企业下达生产计划
- C. 控制各种商品的价格
- D. 制定 863 计划
52. 行政征收是指行政主体根据法律规定，以强制方式无偿取得相对方财产所有权的一种具体行政行为。
下列行为属于行政征收的是（ ）。
- A. 党费
- B. 排污费
- C. 煤气费
- D. 洗理费
53. 反诉是指在已经提起的诉讼中，被告针对与原告有联系的行为，提起独立诉讼请求的行为。
下列行为属于反诉的是（ ）。
- A. 老师起诉学生借钱不还，学生起诉老师剽窃
- B. 原告起诉离婚，被告请求法院确认婚姻关系本来就是无效
- C. 原告起诉，要求被告按买卖合同交货，被告起诉供货商未能按时交货
- D. 原告起诉被告居住的房屋所有权是他的，被告请求法院让原告偿还欠款
54. 群体是指为了达到共同的特定目标，由两个以上的人所组成的相互依赖、相互作用的人群结构。
下列属于群体的是（ ）。
- A. 一起乘坐飞机的乘客
- B. 排队购买同一商品的顾客
- C. 路上围观交通事故的人群
- D. 参加欧洲旅行团的游客
55. 合同诈骗罪是指以非法占有为目的，在签订、履行合同过程中，以虚构事实或隐瞒真相的方法、骗取对方当事人的财物，数额较大的行为。
下列行为中属于合同诈骗罪的是（ ）。
- A. 位于云南的甲（卖方）工厂与位于上海的乙（买方）公司之间签订了买卖合同。后因甲的产品供不应求，厂领导发布文件要求产品只供应省内客户，而不

密

封

线

内

不

要

答

题

密

封

线

内

不

要

答

题

再履行与乙的合同

- B. 娄某得知某公司需要木材后, 明知自己没有资金及货源, 仍与该公司签订了木材购销合同, 得到定金 3 万元后, 娄某未去联系任何木材货源
- C. 某科研院所与某装潢公司签订技术转让合同, 合同规定科研院所将其研制的具有特殊性能的粘合胶生产技术转让给装潢公司, 而该公司利用科研院所提供的配方生产后, 发现该粘合胶并没有合同中注明的特殊性能
- D. 某加工厂与原料供应商签订了供货合同, 而由于两地间道路塌方, 造成原料供应商未能按期履行合同

第二部分结束, 请继续做第三部分!

第三部分 常识判断

(共 30 题, 参考时限 20 分钟)

本部分包括两种类型的题目, 请根据题目要求作出正确选择。多项选择错选、多选、少选均不得分, 但也不倒扣分。

【例题】尽管我们关于太阳能的研究和议论已经相当多, 但今天对太阳能的利用还是非常有限的, 其主要原因是 ()。

- A. 难以将阳光有效地聚焦
- B. 尚未开发出有效的收集和储存太阳能的系统
- C. 核能仍然更为有效
- D. 太阳能系统尚不安全

【解答】关于太阳能的利用可能很多人没有系统的知识, 但是仔细考察四个选项, 你可以依据常识看出 A、C、D 三个理由都过分具体且似乎不应成为不能充分利用太阳能的足够理由, 只有 B 选项所说的原因概括性强, 而且更为全面, 故正确答案为 B。

请开始答题:

得分	评卷人

一、单项选择题 (共 20 题)

- 56. 科学共产主义诞生的标志是 ()。
 - A. 英国工人制定《人民宪章》
 - B. 共产主义通讯委员会建立
 - C. 共产主义者同盟建立
 - D. 《共产党宣言》发表
- 57. 依据我国宪法的规定, 省、自治区、直辖市建置的批准机关是 ()。
 - A. 全国人民代表大会

- B. 全国人民代表大会常务委员会
C. 国务院
D. 国家主席
58. 决定我国现阶段多种所有制方式并存的根本原因是 ()。
- A. 产品经济的存在
B. 物质利益的差别
C. 劳动就业的差别
D. 社会生产力的多层次性
59. 2001 年中共中央印发的《公民道德建设实施纲要》中提出：“各地区、各部门在制定政策时，不仅要注重经济和社会事业发展的需要，而且要体现社会主义精神文明和公民道德建设的要求。”这表明 ()。
- A. 市场行为只能用市场手段去解决
B. 市场行为的弊端只能用道德手段去解决
C. 道德建设可以促进市场经济秩序的建立
D. 道德规范总是与市场原则相冲突
60. 协调发展，就是要统筹城乡发展、统筹区域发展、统筹经济社会发展、统筹 () 和谐发展、统筹国内发展和对外开放。
- A. 社会与人
B. 人与自然
C. 人与经济
D. 经济与环境
61. 地球上的南北回归线是 ()。
- A. 热带与温带的分界线
B. 低纬与高纬的分界线
C. 温带与寒带的分界线
D. 极昼与极夜的分界线
62. 京沪、京九、京广三条南北铁路干线都通过的省区是 ()。
- A. 河北
B. 河南
C. 山东
D. 安徽
63. 第一部《中华人民共和国宪法》是在何年、在什么会议上制定的？()
- A. 1951 年第一届政治协商会议
B. 1953 年第二届政治协商会议
C. 1954 年第一届全国人民代表大会
D. 1957 年第二届全国人民代表大会
64. 用废旧书报包装食品，会引起食品污染，这是由于印刷书报的油墨中含有 ()。
- A. 汞化物有害物质
B. 砷化物
C. 铜、盐等有害物质
D. 铅等有害物质
65. 道教是我国土生土长的宗教，它兴起于 ()。
- A. 春秋时期
B. 战国时期
C. 西汉时期
D. 东汉时期
66. 下列有关海洋知识的表述不正确的是 ()。
- A. 海水所含的元素超过了人体吸收的限度所以不能喝
B. “黑潮”是纵贯大西洋的一支海流，由于污染，海水呈黑色，所以被称为“黑潮”
C. 科学家认为，海平面的升降是由于大陆板块运动或全球气候的冷暖变化引起的

密

封

线

内

不

要

答

题

密

封

线

内

不

要

答

题

- D. 海洋中容纳有巨大的热量,在不断与外界交换和传输自身热量的过程中,对大陆的气候起到了调节作用
67. 申请注册的商标应具备 ()。
- A. 实用性
C. 创造性
D. 新颖性
D. 显著性
68. 下述的搭配正确的是 ()。
- A. 梵高一《和平鸽》,毕加索—《向日葵》,罗丹—《思想者》
B. 梵高一《向日葵》,毕加索—《思想者》,罗丹—《和平鸽》
C. 梵高一《向日葵》,毕加索—《和平鸽》,罗丹—《思想者》
D. 梵高一《思想者》,毕加索—《和平鸽》,罗丹—《向日葵》
69. 电在导线里的传播速度和电磁波在空中的传播速度哪个快? ()
- A. 电磁波在空中的传播速度快
B. 电在导线里的传播速度快
C. 二者一样快
D. 电在电阻较大的导线里的传播速度比电磁波慢
70. 下列表述符合辩证法思想的是 ()。
- ①动中有静,静中有动
②是亦彼也,彼亦是也
③对症下药,量体裁衣
④因地制宜,因时制宜
- A. ①②
B. ①③
C. ①②③
D. ①③④
71. “追求真理比占有真理更宝贵。”德国诗人莱辛的这一著名诗句所包含的哲理是 ()。
- A. 认识经历了由感性认识到理性认识的过程
B. 认识的根本任务是透过现象认识本质
C. 认识不能停滞,而应该不断扩展和深化
D. 改造世界比认识世界更重要
72. 劳动产品能否成为商品的关键是 ()。
- A. 是否留给自己使用
B. 是否赠送他人
C. 是否用于交换
D. 是否无偿供他人使用
73. 面对错综复杂的国际国内形势,我国必须保持一个较快的发展速度。就当前我国面临的情况来看,要保持较快的发展速度,必须依靠 ()。
- A. 企业增加产品数量
B. 国家增加对企业的投资
C. 扩大生产规模
D. 集约型的经济增长方式
74. 解决“三农”问题的根本途径是 ()。

- A. 高度重视粮食生产，扩大粮食种植面积
 - B. 增加对农业的人力、物力、财力的投入
 - C. 对农业和农村经济结构进行战略性调整
 - D. 实行农村税费改革，增加农民收入
75. 行政主体做出的行政行为，不论合法还是违法，都推定为合法有效。这说明行政行为具有（ ）。
- A. 确定力
 - B. 公定力
 - C. 约束力
 - D. 执行力

得分	评卷人

二、多项选择题（共 10 题）

76. 社会主义的生产关系和上层建筑与资本主义的生产关系和上层建筑的根本不同在于（ ）。
- A. 所有制结构
 - B. 国体
 - C. 政体
 - D. 经济运行机制
77. 下列关于人类和环境的关系的叙述，正确的有（ ）。
- A. 随着社会生产力的发展，环境对人类活动的反作用在逐渐减小
 - B. 随着社会生产力的发展，人类改造自然的程度在不断加深
 - C. 随着社会生产力的发展，人类与环境之间的物质交换量在不断扩大
 - D. 随着社会生产力的发展，人类利用自然的范围在不断扩大
78. 下面说法正确的有（ ）。
- A. 实施西部地区大开发战略，加快中西部地区发展，是党中央贯彻邓小平同志关于“两个大局”的战略思想
 - B. 把每年的 7 月 1 日作为中国共产党诞辰纪念日，是因为中国共产党的成立大会是在 1921 年 7 月 1 日召开的
 - C. 中国共产党的根本宗旨是解放思想、实事求是
 - D. 中国共产党同各民主党派合作的基本方针是“长期共存，互相监督，肝胆相照，荣辱与共”
79. 农业在国民经济中的基础地位主要表现在（ ）。
- A. 为人们提供基本生活资料
 - B. 为轻工业提供重要原料
 - C. 为国民经济各部门提供技术改造的物质基础
 - D. 为经济建设提供资金积累
80. 许多动物定时长途迁徙的原因主要是（ ）。
- A. 繁衍后代的需要
 - B. 获取食物的需要
 - C. 追求适合生存和生长的温度
 - D. 通过长途艰苦迁徙，淘汰同类中的弱者，优化种群
81. 下列说法正确的是（ ）。

密

封

线

内

不

要

答

题

密

封

线

内

不

要

答

题

- A. 我国是一个海陆兼备的国家
B. 我国领土面积位居世界第三
C. 我国水资源地区分布极不平衡
D. 中国是世界上人口最多的国家
82. “无论是政治的立法或市民的立法，都只是表明和记载经济关系的要求而已。”马克思的这句话的含义是（ ）。
- A. 法是由生产力水平决定的
B. 法是由经济基础决定的
C. 法所体现的统治阶级意志的内容是由统治阶级物质生活条件决定的
D. 法不反映统治阶级的意志
83. 我国奴隶社会确立和发展的时期是（ ）。
- A. 夏朝
B. 商朝
C. 西周王朝
D. 东周王朝
84. 我国公民的政治权利和自由包括（ ）。
- A. 人身自由
B. 言论、出版、集会、结社、游行、示威的自由
C. 宗教信仰自由
D. 选举权和被选举权
85. 我国国家创新体系已开展的主要工程有（ ）。
- A. 中国社会科学院的《知识创新体系》
B. “863”计划
C. 科学技术部的《技术创新工程》
D. 教育部的《211工程》

第三部分结束，请继续做第四部分！

第四部分 言语理解与表达

（共30题，参考时限30分钟）

本部分均为单选题，着重考查考生对语言文字的理解和驾驭能力。这种能力包括：对词、句子、篇章一般意思和特定意义的理解；对比较复杂的概念和观点的准确理解；对语句隐含信息的合理推断；根据上下文，恰当选用词语；准确地辨明句义，筛选信息。注意：问题可能是选择一个词语或一个句子，使表达最为准确，也可能是考查对文字内容的理解，你的选择应与题目要求最相符合。

【例题】铁路新线路的开辟与否往往必须在建路花费尽可能少的要求与新建路线的贸易运输量尽可能多的要求之间取得妥协。

这段话主要支持了这样一种论点，即新建铁路的线路（ ）。

- A. 应该是一造价最低的线路

- B. 其选择决定了新兴贸易中心的位置
- C. 决定于是否与终点之间的距离最短
- D. 不会总是具有最低建造成本的路线

【解答】仔细考察四个选项，您可以发现，选项 A 与题中“妥协”的含义不相符；选项 B 和 C 都无法从题中得出；只有选项 D 是短文支持的一种主要观点，因此正确答案为 D。

请开始答题：

得分	评卷人

(1) 阅读以下文字，完成 86 ~ 94 题

知识经济的发展无疑给发展中国家带来赶超发达国家的巨大机遇（如可以借鉴发达国家的经验，缩短工业化阶段的进程，即发挥后发优势），但同时也使这些国家面临严峻挑战。

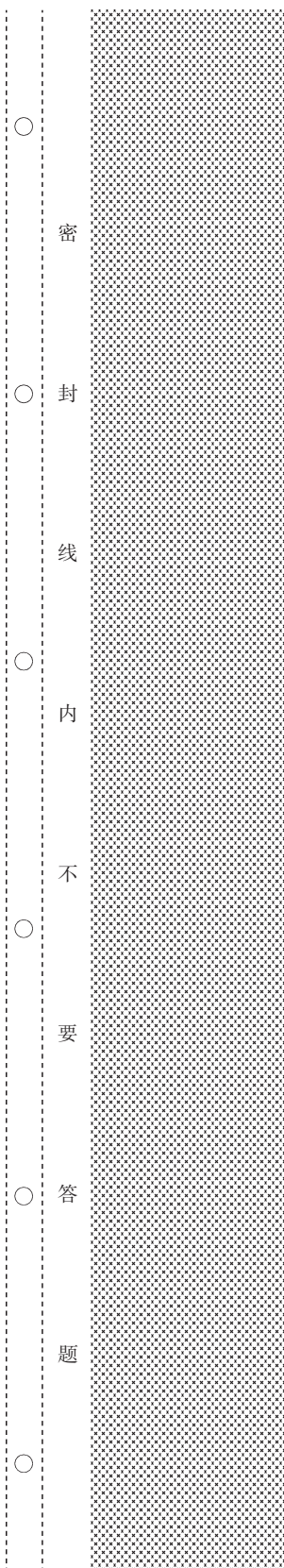
挑战首先来自“知识”这一生产要素本身。经济学家保罗·罗默指出，知识的生产、应用和扩散的效率与知识的积累及人力资本正相关。而正是在这两点，发展中国家同发达国家存在着巨大差距，这种差距虽然使发展中国家在知识的选择和应用方面可以有较大的回旋余地，但同时使得他们与发达国家在国际分工中因位势的不同形成垂直分工的关系，因而处于不利地位，甚至随着新的技术壁垒的形成而形成新的“中心——依附”关系，加大贫富差距。例如，有迹象表明，近 20 年来，在全球的收入分配方面，情况逐渐恶化。从 1960 年到 80 年代末，世界人均国民生产总值（以购买力平价计算）的基尼系数呈上升趋势，从 1960 年的 0.44 到 1989 年的 0.55。又据统计，世界最富的 20% 的人口的所得收入与最穷的 20% 的人口的收入比从 1960 年的 11.1:1 增加到 1989 年的 17.1:1。可见，全球增长的好处并没有平均扩散到所有国家，贫富差距还在加大。正如托夫勒所说：“知识的分配比武器和财富的分配更不平等。因此知识（尤其是关于知识的知识）的重新分配更加重要。它能改变其他主要权力资源的分配。”

挑战更来自自身准备的不足，因为_____。知识经济对于已完成工业化的发达国家而言是生产力发展的自然结果，顺理成章；对于首先要通过工业化改变二元经济结构的发展中国家而言，则意味着要不甘落后、抓住机遇，就必须将工业化与知识化两步并作一步走，即如果说在上一个百年，后发国家还有可能通过加速工业化过程追赶发达国家，那么在当今新的世纪交替之际，由于科学技术的加速发展以及科技进步转化为经济增长的过程不断加快，后发国家已经没有了从容实现工业化的可能。发展中国家面临的挑战显然更加严峻。

中国正处在从计划经济向社会主义市场经济体制转变的过程中，这使得在应对知识经济的挑战、加速发展的同时，还必须完成制度的变革，因而任务异常艰巨。

我们初步实现了邓小平同志提出的“三步走”战略的前两步目标，正在开始实施第三步战略。与前两步战略相比，第三步战略不是自己和自己的比较，不是要达到“温饱”“小康”这样相对明确的指标，而是要“达到中等发达国家水平”。这是一个更加开放的、[a] 指标，因而也是一个更加艰巨的任务。

目前，与发达国家相比，我国还没有摆脱传统产业的束缚，经济增长方式仍以外



密
封
线
内
不
要
答
题

密

封

线

内

不

要

答

题

延扩张为主，以消耗稀缺自然资源和污染环境为代价。尽管我们多次强调“经济增长方式的根本转变”，但是，以高技术为产业支柱，以智力资源为主要的新型经济，还没有成为我国内涵式经济增长方式的主体，就全国范围而言，以高科技为基础的第三产业就业人员占全国就业人员总数不到5%，其产值占国内生产总值不到15%，以知识密集型为主的服务贸易出口占全部出口不到10%。但是，这并不意味着中国不具备发展知识经济的条件。就整体而言，由于中国东西部经济发展的非均衡性，东部沿海地区某些大城市在某些方面还是具有发展知识经济的条件的。

86. 知识经济对于发展中国家的挑战主要来自（ ）。
- A. 知识的生产、应用和扩散的效率与知识的积累及人力资本正相关
 - B. 发展中国家在知识的积累和人力资本方面落后于发达国家
 - C. 发展中国家面临更多的制度问题
 - D. 发展中国家自身准备不足
87. 与知识经济比较而言，工业化经济发展最大的弊端是（ ）。
- A. 消耗稀缺的资源、污染环境
 - B. 造成了全球贫富差距过大
 - C. 形成了技术壁垒
 - D. 无法拉开发达与发展中国家的差距
88. 文中谈到发展中国家从对待机遇的角度看，应当如何应对知识经济的挑战？（ ）
- A. 注意知识的积累
 - B. 工业化和知识化并进
 - C. 发展新型经济
 - D. 快速实现体制改变
89. 下列说法，不符合全文意思的一项是（ ）。
- A. 知识经济是以知识为基础的经济，它的核心在于创新
 - B. 知识经济既有正面效应，也有负面效应
 - C. 当代经济的发展紧密地依赖知识的生产、传播和应用
 - D. 关于知识在现代经济发展中对其他资源具有强大支配力、控制力、渗透力
90. 下列对我国的现状描述正确的一项是（ ）。
- A. 我国东部广大沿海地区已经具备发展知识经济的某些有利条件
 - B. 我国只有西部地区还没有摆脱传统产业的束缚
 - C. 我国西部地区没有以高技术为产业支柱的新型经济
 - D. 中国部分地区已经初步具备发展知识经济的条件
91. 文中 [a] 处应填入的词语是（ ）。
- A. 艰巨的
 - B. 活跃的
 - C. 紧迫的
 - D. 动态的
92. 下列选项适合作为本文结束语的一项是（ ）。
- A. 知识经济的时代已经来临
 - B. 总之，面对知识经济带来的挑战，我们必须认真对待
 - C. 总之，我们必须发展知识经济

- D. 知识经济真是让人欢喜，让人忧呀
93. 根据上文，下列对基尼系数表述不正确的一项是（ ）。
- A. 基尼系数为0，则表示收入分配完全平等
- B. 基尼系数是衡量分配平等程度的指标
- C. 基尼系数越高，收入的差距则越悬殊
- D. 基尼系数是最富有人群的收入和最贫困人群收入的比值
94. 下列选项中，适合填在文中横线上的一项是（ ）。
- A. 路遥知马力
- B. 磨刀不误砍柴工
- C. 机会只偏爱有准备者
- D. 只有站在巨人的肩膀上才能看得更远

得分	评卷人

(2) 阅读以下文字，完成 95 ~ 100 题

公文，以其规范的体式，法定的效力，以其体现意志的团体性和所产生作用的强制性，对写作语言的使用提出了很高的要求。在公文写作的过程中，人们往往从公文语言的逻辑性、严密性、准确性上考虑，一般注意区分其与口头语言和书面文学语言的区别。但常常却容易疏忽模糊语言的运用，或者即便使用了，也是在一种潜意识中使用，而没有真正理解什么是模糊语言。让我们试从语言概念内涵和外延的模糊性与所反映客观事物的模糊性，从语言概念内涵和外延的模糊性与表述需要的模糊性两个相对应上来看模糊语言的实质。

模糊语言是一个语言概念，是反映客观事物中那些在内涵和外延上都有不确定性概念的语言概念。它的最大特点在于客观事物的模糊和语言本身在内涵、外延上的模糊相对应，形成了表述事物的准确性。比如：“全国人民奋勇前进”，“全军上下努力完成”等，其中修饰“前进”的“奋勇”和修饰“完成”的“努力”，本身在客体上就是模糊性。如果在此把它精确化：全国人民用多快的速度前进，全军上下用多大的力去完成，从表象上看是精确的，但实际上是模糊的，问题在于语言上的精确所对应的客体是模糊的。同时有的事物在客体上并不模糊，而为了满足某一种特殊需要在表述上要模糊，这同样是模糊的相对应，只是客体变成了实际需要。比如：“领导一再强调了这个问题，还是没有引起一些人的足够重视。”其中修饰“强调”的“一再”就是一个模糊的概念，而这里强调的频率是完全可以精确化的，三次、五次、甚至一百次、一万次，然而表述的目的并不是简单地反映“强调”的频率，而是要反映“强调”的重要性。这样，“一再”就比其他任何能确指的频率在表述效果上都更有力。

语言模糊不是一个语言概念，而是一种语言现象，是一种对客观事物反映含糊不清的语言现象。其主要的特点是没有形成两种模糊的相对应。一种为客观事物和表述需要是精确的，而表述语言却是模糊的；一种为客观事物和表述需要是模糊的，而表述语言却是精确的。比如：“队伍于某日凌晨三点以后在张家口以南集结。”“人到得差不多了，开会吧！”这里的“凌晨三点以后”“张家口以南”和“差不多”都是极

密

封

线

内

不

要

答

题

密

封

线

内

不

要

答

题

其模糊的时间、范围概念，而在这里所需要的却是一个确定的时间和范围概念。[a]。再比如：“这件事发生在大约十年前的某一天。”其中，“十年前”其本身在客体上是模糊的东西，而在表述过程中的“某一天”却把它精确化，这是客体上模糊和表述过程精确化的相对应。无论是哪一种对应，都是反映客观事物模糊而容易产生歧义的语言模糊现象。这种现象在公文写作过程中是绝对要避免的。

综上所述，模糊语言和语言模糊本质的区别在于是否形成了两种对应，即客观上的模糊、实际表述需要的_____和表述过程中语言概念的_____的相对应；客体上的精确、实际表述需要的_____和表述过程中的语言概念的_____相对应。否则，便是语言模糊。

95. 关于公文“模糊语言”的实质，下列表述不正确的一项是（ ）。
- A. 模糊语言是反映客观事物中那些在内涵和外延上都有不确定性的语言概念
 - B. 模糊语言是指客观事物模糊与语言内涵外延模糊相对应，从而表述事物的准确性
 - C. 模糊语言是指从表象上看是精确的，但实际上是模糊的，即语言上的精确而所对应的客体是模糊的
 - D. 模糊语言是指表述上的模糊，实际上比其他任何确指的频率在表述效果上都更加有力
96. 下列对“语言模糊”解释不正确的一项是（ ）。
- A. “语言模糊”是一种对客观事物反映含糊不清的语言现象
 - B. “语言模糊”是指为客观事物和表达需要是精确的，而表述语言却是模糊的
 - C. “语言模糊”是指客体上和实际表述需要的确定性与表述过程的模糊性相对应
 - D. “语言模糊”是指某些事物在客体上并不模糊，而为了特殊需要在表述上模糊
97. 最末一段画线处的四个词语，按顺序排列，正确的一项是（ ）。
- A. 模糊 模糊 精确 精确
 - B. 精确 精确 模糊 模糊
 - C. 模糊 精确 模糊 精确
 - D. 精确 模糊 精确 模糊
98. 下列各例句中，属于语言模糊的一项是（ ）。
- A. 近年来，中国指挥家汤沐海在欧洲一些很有影响的音乐节上频繁演出
 - B. 海水深度在 200 米的大陆架，蕴藏的石油有 1500 亿吨，占地球已知总储量的三分之一
 - C. 我国将于 5 月 12 日至 6 月 10 日由本土向太平洋以南南纬 7 度零分、东经 171 度 33 分为中心，半径 70 海里圆形海域内的公海上发射运载火箭
 - D. 过去十年中，日本对外投资大幅转向东亚，投资中日元贷款比重大，在日元长期升值的背景下，这会加重偿债负担
99. 文中 [a] 处应填入的句子是（ ）。
- A. 这就是语言概念和外延的模糊性与表述需要模糊性的相对应
 - B. 这就是客观事物和表述需要是模糊的，而表述语言却是精确的
 - C. 这就是客体上和实际表述需要的确定与过程的模糊性的相对应
 - D. 这就是客观上的模糊性与语言上的精确性相对应

100. 下列选项中对于本文理解不正确的一项是 ()。

- A. 在公文写作中, 我们应当注意模糊语言的应用
- B. 在公文写作中, 我们应当大量使用模糊语言
- C. 在公文写作中, 我们应当避免语言模糊现象
- D. 模糊语言是公文写作中应当加以重视的语言概念

得分	评卷人

(3) 阅读以下文字, 完成 101 ~ 105 题

1991 年 7 月的一个夜晚, 物理学家庞格拉茨把 23 磅的钡气通过卫星释放到太空, 成功地制造出了极光。

庞格拉茨在前不久研究了极光出现的原因。原来, 地磁场的磁力线从南磁极出来, 又绕回到北磁极。地磁场经常受到太阳风的影响。太阳风是从太阳外层大气不断流出的带电粒子, 携带着太阳磁场, 当该磁场的磁力碰巧与地磁场的磁力线接合在一起时, 太阳风试图将地磁场带去。在地球的背风面, 磁力线变得又细又长, 最终像橡皮一样突然断开。之后, 一部分磁场顺流冲去, 直趋场外行星, 即太阳风中一个大漩涡; 另一部分磁场 [a] 着俘获的粒子和巨大的能量反弹回地球。这种“弹弓”激活地球附近的电子, 这些电子撞到极地大气层的原子上, 就发出了极光。庞格拉茨的钡云说明了这一现象的发生过程。

101. “在地球的背风面, 磁力线变得又细又长”, 这里的“磁力线”指的是 ()。

- A. 地磁场的磁力线
- B. 太阳磁场的磁力线
- C. 极光的磁力线
- D. 太阳风作用于地磁场所形成的磁力线

102. 根据本文所述, 极光出现的原因与以下物理现象相关的是 ()。

- A. 地磁场受到太阳风的影响
- B. 钡气体通过卫星释放到天空
- C. 太阳风中的大漩涡
- D. 地球附近的电子与大气层原子的强力碰撞

103. 文末“庞格拉茨的钡云说明了这一现象的发生过程”中的“说明”, 具体意思是 ()。

- A. 庞格拉茨的钡云证实了人可以利用极光产生的原理, 制造出极光来
- B. 庞格拉茨的钡云使人看清楚了极光产生的一系列过程
- C. 庞格拉茨的钡云展示了地球附近被激活的电子撞到极地大气层的原子上, 到发出极光这全部过程的图像, 使人明白清楚
- D. 庞格拉茨钡云实验的成功, 对太阳与地磁场的相互作用, 以及这种相互作用产生极光的机制作了较好的解释

104. 下面①—⑥各表述了极光产生的一个物理过程。选出其发展顺序排列正确的一项 ()。

①被激活的地球附近的电子碰到极地大气层的原子上

密

封

线

内

不

要

答

题

密

- ②太阳磁场磁力线与地磁场磁力线接合
- ③一部分磁场携带俘获的粒子和巨大能量反弹回地球
- ④太阳风试图将地磁场带走
- ⑤地球背风面磁力线的变化继而断开
- ⑥一部分地磁场顺流冲去，直趋场外行星

A. ④②⑤ { ③①
⑥

B. ②④⑤ { ⑥
③①

C. ⑤④② { ①③
⑥

D. ⑤②④ { ⑥
①③

封

105. 文中 [a] 处应填入的词语是 ()。

- A. 携带
- B. 夹杂
- C. 席卷
- D. 捕捉

线

得分	评卷人

(4) 阅读以下文字，完成 106 ~ 110 题

内

随着计算机和网络技术的发展，特别是加密技术的进步，开始出现了电子现金这一新的货币形式。电子现金是一种通过电子方式进行银行署名的数字信息，它同信用卡不一样，信用卡本身并不是货币，而只是一种转账手段；电子现金本身就是一种货币，可以直接用来购物，但它又和金币、纸币不一样，是一种没有物理实体的货币，仅仅通过数据的交换便可实现现金的功能。

不

电子现金是一种数字信息，它和纸币一样，本身并没有价值，所以有被伪造的危险，为此就要使用电子签名等加密技术，从技术上说，电子签名比纸币上使用的水印更难伪造。但电子现金和其他数字信息一样容易复制，因此，需要防止电子现金持有者将其复制，然后向多家店铺支付。另外，电子现金的匿名性会给来路不明的钱财提供洗钱的方便，这点需要防范。

要

电子现金蕴藏着创造巨大数字商品市场的可能性。所谓数字商品就是在交易中不用真的商品在场，只是把有关商品间的信息列出供选购，到提货时才取出真正的商品。在数字商品市场中，靠电子现金和数字商品的信息交换完成交易，无论生产地和消费地相隔多远，都可以一样进行交易，交易所花的费用几乎为零，所以今后它将得到巨大的发展。

答

106. 为了防止伪造电子现金危险的发生，就需要 ()。

- A. 使用电子签名和水印
- B. 使用电子签名等加密技术
- C. 使用电子签名和数字信息
- D. 使用网络技术和加密技术

题

107. 完成“数字商品交易”，依靠的条件是 ()。

- A. 依靠电子现金和数字商品间的信息交换
- B. 依靠有关商品的信息列出供选购
- C. 依靠生产地和消费地不管多远都可以进行交易

- D. 依靠电子现金蕴藏的创造巨大数字商品市场的可能性
108. 对“电子现金本身就是一种货币，可以直接用来购物”和“电子现金本身并没有价值”两句话的意义理解正确的是（ ）。
- A. 电子现金是没有物理实体的货币，仅仅是一种数字信息
B. 电子现金这种数字信息，要通过电子方式进行银行署名
C. 电子现金是没有物理实体的货币，仅是通过数据交换实现现金功能
D. 电子现金通过电子方式进行银行署名，实现数据交换功能
109. 下列选项中，对电子现金的优势描述正确的一项是（ ）。
- A. 电子现金的使用过程中商家不再承担假钞的风险
B. 电子现金是绝对不会丢失的
C. 用电子现金购物可以免费送货
D. 电子现金的使用帮助人们实现无地域限制和无时间限制购物
110. 下列说法不符合原文意思的一项是（ ）。
- A. 交易中把有关商品信息列出供选购，提货时才取出真正的商品，这就是数字商品
B. 电子现金这种新的货币形式的出现，反映了计算机和网络技术的发展，特别是加密技术的进步
C. 电子现金在向多家店铺支付前，先要防止电子现金持有者将其复制
D. 电子现金这种货币形式和信用卡不一样，它本身并不是货币，而只是一种数字信息

得分	评卷人

(5) 根据题目要求，完成 111 ~ 115 题

111. 这种社会问题多样化的挑战，已经越来越不容忽视。任何不在意和得过且过以及僵化保守的对待方式，都会影响问题的解决，甚至带来新的、更多的问题。近些年一些地区基层党组织的涣散、经济上的无序和损失，社会治安状况不好，腐败问题日益严重，以及“法轮功”等封建沉渣一度得以泛起，都明白无误地说明了这一点。对此应该引起我们各级领导干部的高度注意。对这段话理解正确的一项是（ ）。
- A. 随着社会的发展，我们将面临更多无法解决的问题
B. 我们应该避免或回避多样化给社会带来的问题
C. 要积极主动地面对新问题，认识问题的复杂性，认真地研究探索，总结出新规律
D. 面对多样化的挑战，我们应加大力度惩治腐败，整顿社会治安，加强思想政治工作
112. 当西方企业还在产品质量的竞争中拼搏，日本企业却已开始改变竞争方式，将重点转移到顾客服务方面来。继质量之后，服务变成了企业下一个全力以赴的目标。以下哪项不符合上文的意思？（ ）

密

封

线

内

不

要

答

题

密

封

线

内

不

要

答

题

- A. 质量是企业生存的根本,是迎合顾客消费心理的唯一法宝
- B. 要通过实用、创新、符合市场需求的产品,来增加顾客满意度
- C. 通过合理的雇用程序,录用最能为顾客着想和最有责任心的员工
- D. 让产品超越顾客的期待,是使顾客建立忠诚度的最有效的办法

113. 一国丧失过量表土,需进口更多的粮食,这就增加了其他国家土壤的压力;一国大气污染导致邻国受到酸雨的危害;二氧化碳排放过多,造成全球变暖、海平面上升,几乎可以危及所有的国家和地区。

下述哪项最能概括上文的主要观点?()

- A. 环境危机已影响到国与国之间的关系,可能引起国际争端
- B. 经济的快速发展必然导致环境污染的加剧,先污染、后治理是一条规律
- C. 在治理环境污染问题上,发达国家愿意承担更多的责任和义务
- D. 环境问题已成为区域性、国际性问题,解决环境问题是人类面临的共同任务

114. 下列句子中有歧义的一项是()。

- A. 汽车在门外等他
- B. 湖南和湖北的部分地区今夜有小到中雨
- C. 朋友们对他的支持,他将永远铭记在心
- D. 大家并不是不认为他的建议不无道理

115. 下列句子中有语病的一项是()。

- A. 改革开放以来,北京郊区农村突破了单一的从业生产结构
- B. 部队在陈村进行了整编,扩充了不少人员
- C. 这种新产品深受广大用户以及家庭主妇的欢迎
- D. 发达国家的考核手段出现了自动式、信息化的趋势

第四部分结束,请继续做第五部分!

第五部分 资料分析

(共20题,参考时限20分钟)

针对下列图、表或文字回答问题。你应根据资料提供的信息进行分析、比较、计算、处理。你可以在题本上运算。

【例题】根据下表,回答①~②题:

博物馆四个入口处自动计数器的读数:

自动计数器在不同时间的读数(人数)					
入口(时间)	7:00	8:00	9:00	10:00	11:00
1	7111	7905	8342	8451	8485

2	8432	9013	9152	9237	9306
3	5555	5921	5989	6143	6233
4	954	1063	1121	1242	1299

①从早上 7:00 到 11:00 通过入口 1 进入博物馆的参观人数是 ()。

- A. 580 B. 94 C. 1374 D. 1594

②在早上 7:00 到 8:00 之间, 通过人数最多的入口是 ()。

- A. 1 B. 2 C. 3 D. 4

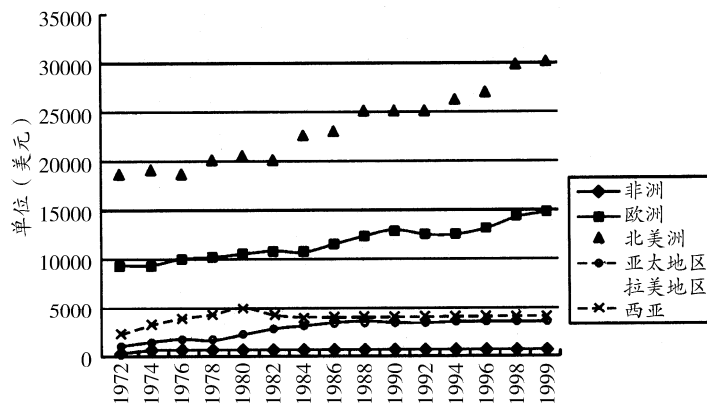
【解答】题①应为 $8485 - 7111 = 1374$, 答案是 C;

题②比较两数之间的差, 差值最大的是入口 1 的两个数, 故答案是 A。

请开始答题:

得分	评卷人

(1) 根据下列统计图形回答 116 ~ 118 题



图一 全球年人均国内生产总值

116. 1972 年至 1999 年, 北美地区和亚太地区人均生产总值最大的差值大约是 ()。

- A. 24000 美元 B. 26500 美元
C. 29000 美元 D. 337800 美元

117. 西亚地区在 1972 到 1999 年间, 其人均生产总值峰值是多少美元? ()

- A. 3000 B. 3800 C. 4000 D. 4800

118. 下列表述中对于全球经济发展趋势表述正确的是 ()。

- A. 全球各地区在将近三十年的时间里经济普遍呈上升趋势
B. 1990 年到 1998 年经济发展大面积滑坡, 出现了负增长
C. 以 GDP 平均增长速度为指标, 发展最迅速的地区是亚太地区
D. 总体而言, 全球各地区都出现了泡沫经济现象

得分	评卷人

(2) 根据下列材料回答 119 ~ 123 题

密

封

线

内

不

要

答

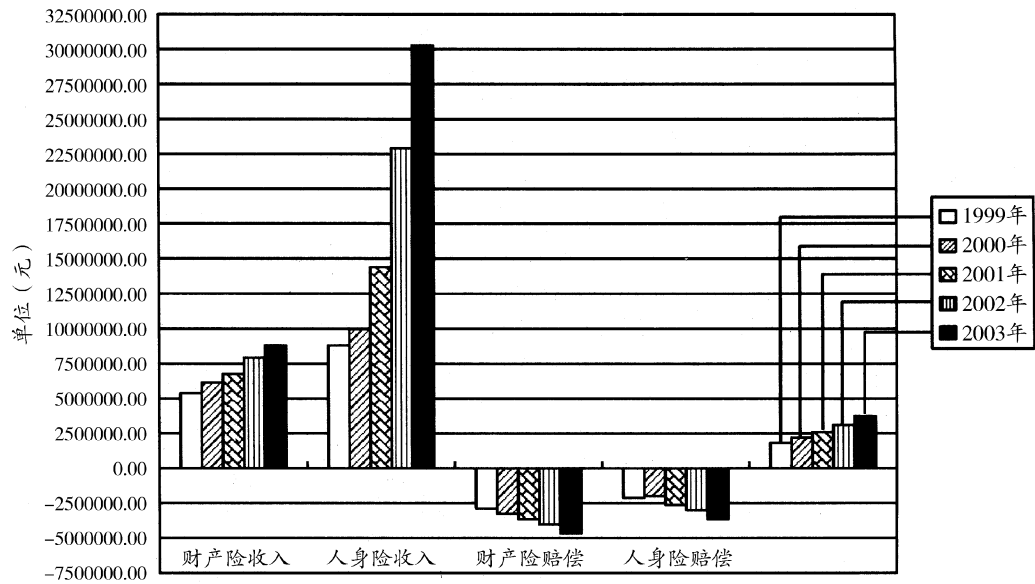
题

由于历史的原因,苏北地区对外开放起步较晚,但进入二十世纪九十年代特别是“九五”期间,该地区开放型经济发展迅速。“九五”期间,苏北累计实际利用外资总额 27.82 亿元,比“八五”增加 2.3 倍,年均增长 12.9%,高于全省 4.5% 和苏南 5.7% 的增长幅度;累计进出口总额为 55.14 亿美元,比“八五”增加 2.4 倍,年均增长 17.2%,低于苏南地区 29.4% 的增长幅度,但高于苏中地区增长幅度 5.2 个百分点;累计签订对外承包工程、劳务合作和设计咨询合同额 3.54 亿美元,比“八五”增加 14.6 倍,年均增长 65.1%,低于苏中地区 73.4% 的增长幅度,但明显高于苏南地区 34.1% 的增长幅度;“九五”期间,苏北累计实现旅游外汇收入 1.28 亿美元,年均增长 40.4%,高于全省 22.7%,苏南 20.7% 和苏中 34.5% 的增长幅度。“九五”期间,苏北实际利用外资金额仅占全省的 7.0%,而苏南则高达 87.4%。2001 年,各地区进出口总额占全省的比重,苏南为 86.9%,苏中为 9.7%,苏北为 3.4%,苏北与苏南地区进出口总额的比例由 2000 年的 1:23.4 拉大到 1:25.6。

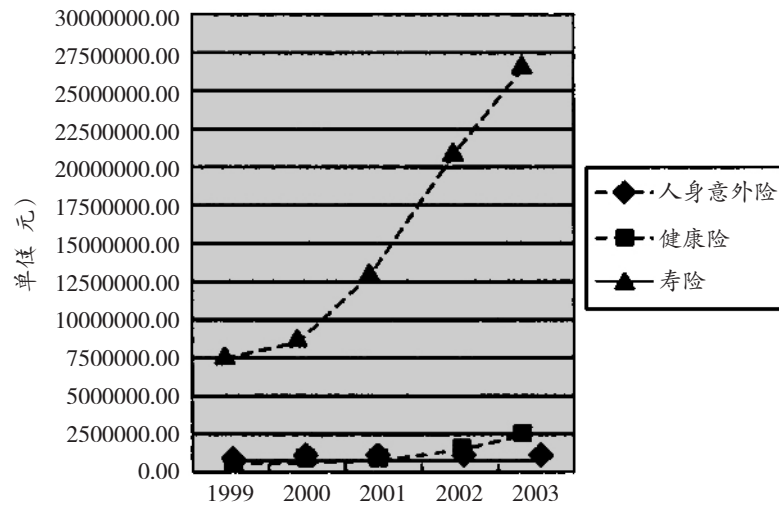
119. “九五”期间,江苏省累计实际利用外资总额为 ()。
- A. 397.43 亿元 B. 282.96 亿元
C. 226.62 亿元 D. 26.57 亿元
120. 下列选项中,正确的一项是 ()。
- A. “九五”期间,苏北地区的经济发展速度大于苏中和苏南地区的发展速度
B. “九五”期间,苏北对外经济发展迅速,大大缩小了与苏中、苏南地区的差距
C. 与“八五”期间相比,“九五”期间苏北地区的对外经济发展速度明显上升
D. “九五”期间,苏北地区对外经济各项指标的涨幅均列全省之首
121. “八五”期间,苏北地区累计实现外汇旅游收入约为 ()。
- A. 0.18 亿美元 B. 0.23 亿美元
C. 0.77 亿美元 D. 0.91 亿美元
122. 2001 年,苏北地区进出口总额 21 亿美元,则苏中地区 2001 年进出口总额约为 ()。
- A. 60 亿美元 B. 40 亿美元
C. 20 亿美元 D. 无法计算
123. 下列表述中,不正确的一项是 ()。
- A. “九五”期间,苏北地区旅游外汇额的增长速度高于进出口总额的增长速度
B. “九五”期间,苏中地区旅游外汇额的增长速度高于进出口总额的增长速度
C. “九五”期间,苏南地区旅游外汇额的增长速度高于进出口总额的增长速度
D. “九五”期间,江苏省旅游外汇额的增长速度高于实际利用外资额的增长速度

得分	评卷人

(3) 根据下列材料回答 124 ~ 128 题



图二 某保险公司经营状况统计图



图三 不同险种人身险收入情况统计

124. 根据图二，该保险公司财产保险收入增加率最高的一年是（ ）。
- A. 2000年 B. 2001年 C. 2002年 D. 2003年
125. 保险公司2002年寿险的收入占人身险收入的百分比大约是（ ）。
- A. 33% B. 50% C. 70% D. 90%

密
封
线
内
不
要
答
题

密

封

线

内

不

要

答

题

126. 1999 年, 该保险公司年利润约为 ()。
- A. 65 万 B. 700 万 C. 880 万 D. 1400 万
127. 下列选项中, 表述正确的一项是 ()。
- A. 该公司五年来财产险赔付金额逐年递减
- B. 该公司五年来人身险收入增加率逐年递增
- C. 与人身险相比, 五年来财产险收入增加量变化不大
- D. 五年来该公司的保险收益的增加率逐年递增
128. 根据图二、三, 可以推断出 ()。
- A. 随着社会的发展, 人们越来越倾向于为自身保障投资
- B. 同样达到了索赔的要求, 人身险的赔偿金额总是少于财产险
- C. 在人身保险中, 寿险的赔偿金额是最多的
- D. 在所有的险种中, 对于投保人个体而言, 人身意外险是获益最少的险种

得分	评卷人

(4) 根据下列统计表回答 129 ~ 130 题

表一 中国银行人民币外汇汇率资料:

* * * * 年 * 月 * * 日		每一百单位外币价	
货币种类	现汇买入价	现钞买入价	现汇现钞卖出价
美元	829.7000	810.1800	832.2000
德国马克	558.8900	545.7400	560.5700
港币	107.2100	104.7300	107.6300
瑞士法郎	685.5100	669.3700	687.5700
法国法郎	163.8100	160.0300	164.4700
比利时法郎	27.1138	26.4889	27.2224
澳门元	103.7500	101.4000	104.2500
瑞典克郎	124.8300	121.9500	125.3300
日元	7.6608	7.4843	7.6916
英镑	1285.5200	1256.8700	1291.6700

129. 表中所列外币的现汇现钞卖出价和现钞买入价差价最小的是 ()。
- A. 港币 B. 比利时法郎
- C. 日元 D. 澳门元
130. 根据表中提供的数据, 将何种外币的 1798649.87 元按现汇价兑换成人民币后, 再兑换回该种外币的损失最大? ()
- A. 日元 B. 美元 C. 瑞士法郎 D. 英镑

得分	评卷人

(5) 根据下表回答 131 ~ 135 题

表二 某省城镇单位职工工资收入状况

	2002 年	2003 年	增长率
在岗职工人数		315.32 万人	327.66 万人
全国在岗职工平均工资		14040 元	
工资总额		468.89 亿元	14.6%
国有单位工资总额		242.64 亿元	8.0%
集体单位工资总额		25.9 亿元	-2.0%
其他单位工资总额	158.15 亿元	200.38 亿元	
国有单位职工年平均工资	15026 元	16460 元	
集体单位职工年平均工资	10119 元	11386 元	
其他单位职工年平均工资	12719 元		6.1%

131. 2002 年该省国有单位在岗职工人数约为 ()。
- A. 100 万人 B. 150 万人 C. 170 万人 D. 180 万人
132. 下列选项中正确的是 ()。
- A. 该省 2002 年的在岗职工年平均工资低于全国平均工资
 B. 该省 2003 年的在岗职工年平均工资高于全国平均工资
 C. 由于在岗职工人数增加, 该省 2003 年在岗职工年平均工资比 2002 年有所下降
 D. 该省 2003 年的在岗职工年平均工资增长率高于 14.6%
133. 对于该省工资现状分析正确的一项是 ()。
- A. 2003 年该省国有单位工资总额增长率居全省之首
 B. 2003 年该省国有单位年人均工资增长率居全省之首
 C. 2002 年该省国有单位工资总额占全省工资总额的 1/2 强
 D. 2003 年该省国有单位年人均工资不及其他单位
134. 对于该省在岗职工人数分析正确的一项是 ()。
- A. 国有单位在岗职工人数占在岗职工人数的一半以上
 B. 集体单位在岗职工人数继续增加, 但增幅较小
 C. 其他单位在岗职工人数急剧增长
 D. 随着在岗职工人数的增加, 该省的就业率进一步提高
135. 2002 年该省集体单位工资总额为 ()。
- A. 23.4 亿元 B. 24.4 亿元
 C. 25.4 亿元 D. 26.4 亿元

全部测验到此结束!

密

封

线

内

不

要

答

题