

注意：  
因以下项目填写不清  
而影响成绩责任自负  
准考证号

--	--	--	--	--	--	--	--	--	--	--	--	--	--	--	--	--	--	--	--

姓名

--	--	--	--	--	--	--	--	--	--

考试

地点

\_\_\_\_\_ 考场 \_\_\_\_\_ 号

归属

区县

(领准考证的区县)

(密  
封  
线  
内  
不  
要  
答  
题)

# 2006 年北京市应届毕业生公务员录用考试

## 《行政职业能力测验》仿真试题

### 说明

这项测验共有五个部分，135 道题，总时限为 120 分钟。各部分不分别计时，但都给出了参考时限，供你参考以分配时间。

请在机读答题卡上严格按照要求填写好自己的姓名、报考部门，涂写准考证号。

请仔细阅读下面的注意事项，这对你获得成功非常重要：

1. 题目应在答题卡上作答，不要在题本上作任何记号。
2. 监考人员宣布考试开始时，你才可以开始答题。
3. 监考人员宣布考试结束时，你应立即放下铅笔，将试题本、答题卡和草稿纸都留在桌上，然后离开。

如果你违反了以上任何一项要求，都将影响你的成绩。

4. 在这项测验中，可能有一些试题较难，因此你不要在一道题上思考时间太久，遇到不会答的题目，可先跳过去，如果有时间再去思考。否则，你可能没有时间完成后面的题目。

5. 试题答错不倒扣分。

6. 特别提醒你注意，涂写答案时一定要认准题号。严禁折叠答题卡！

## 第一部分 数量关系

(共 25 题，参考时限 20 分钟)

得分	评卷人

一、数字推理 (本部分包括两种类型的题目，共 10 题)。

(一) 每题给你一个数列，但其中缺少一项，要求你仔细观察数列的排列规律，然后从四个供选择的选项中选出你认为最合理的一项，来填补空缺项。

【例题】1, 3, 5, 7, 9, ( )

A. 7

B. 8

C. 11

D. 未给出

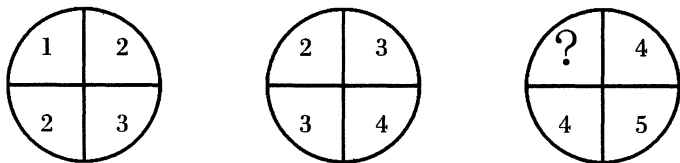
【解答】正确答案是 11，原数列是一个奇数数列，故应选 C。

请开始答题：

1. 2, 9, 16, 23, 30, ( )  
A. 35                      B. 37                      C. 39                      D. 41
2. 93, 114, 136, 159, ( )  
A. 180                      B. 183                      C. 185                      D. 187
3. 225, 196, 169, ( ), 121  
A. 100                      B. 144                      C. 125                      D. 121
4. 2, 6, 13, 39, 15, 45, 23, ( )  
A. 46                      B. 66                      C. 68                      D. 69
5. 22, 33, 20, 31, 18, ( )  
A. 28                      B. 29                      C. 30                      D. 27

(二) 每题图形中的数字都包含一定的规律, 请你总结前两个图形中数字的规律, 从四个选项中选出你认为问号应该代表的数字。

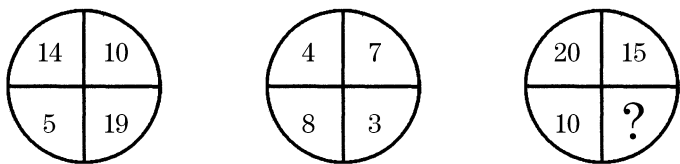
【例题】



- A. 1                      B. 2                      C. 3                      D. 4

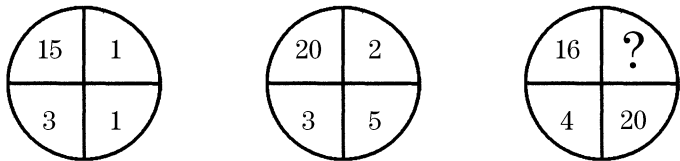
【解答】 正确答案是3, 根据前两个图形, 可以看出规律为:  $1+3=2+2$ ;  $2+4=3+3$ ; 因此  $?+5=4+4$ 。所以答案为C。

6.



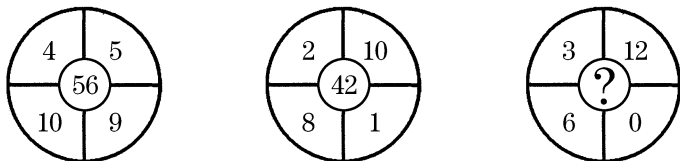
- A. 5                      B. 10                      C. 15                      D. 25

7.



- A. 2                      B. 4                      C. 5                      D. 7

8.



- A. 21                      B. 42                      C. 36                      D. 57

密

封

线

内

不

要

答

题

密

封

线

内

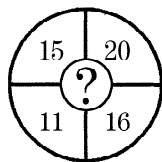
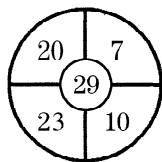
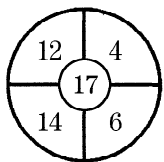
不

要

答

题

9.



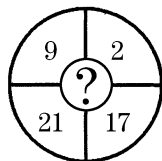
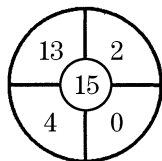
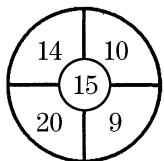
A. 36

B. 30

C. 25

D. 17

10.



A. 15

B. 14

C. 11

D. 9

得分	评卷人

二、数学运算（你可以在题本上运算，遇到难题，你可以跳过不做，待你有时间再返回来做，本部分包括 15 题。）

【例题】84.78 元、59.50 元、121.61 元、12.43 元以及 66.50 元的总和是（ ）。

A. 343.73

B. 343.83

C. 344.73

D. 344.82

【解答】正确答案为 D。实际上你只要把最后一位小数加一下，就会发现和的最后一位数是 2，只有 D 符合要求。就是说你应当动脑筋想出解题的捷径。

请开始答题：

11. 计算  $19961997 \times 19971996 - 19961996 \times 19971997$  的值是（ ）。

A. 0

B. 1

C. 10000

D. 100

12. 某汽车尾部有 6 个信号灯，其中两个是关闭的。则所有尾灯中（ ）是亮着的。

A. 25%

B. 33.3%

C. 50%

D. 66.7%

13. 一项工程原计划 450 人 100 天完成，现在需要提前 10 天，需要增加多少人？（ ）。

A. 500

B. 50

C. 30

D. 480

14. 一件工程，甲队单独做，15 天完成；乙队单独做，10 天完成。两队合作，几天可以完成？

A. 5 天

B. 6 天

C. 7.5 天

D. 8 天

15. 小鲸鱼说：“妈妈，我到您现在这么大时，您就 31 岁啦！”大鲸鱼说：“我像你这么大年龄时，你只有 1 岁。”请问小鲸鱼现在几岁？（ ）

A. 13

B. 12

C. 11

D. 10

16. 小明和小方各走一段路，小明走的路程比小方多  $\frac{1}{5}$ ，小方用的时间比小明多  $\frac{1}{8}$ 。

小明和小方的速度之比是多少？（ ）

- A. 37:14      B. 27:20      C. 24:9      D. 21:4
17. 一所学校一、二、三年级学生总人数 450 人，三个年级的学生比例为 2:3:4，问学生人数最多的年级有多少人？（    ）  
A. 100      B. 150      C. 200      D. 250
18. 某人从甲地步行到乙地，走了全程的  $\frac{2}{5}$  之后，离中点还有 2.5 公里。问甲乙两地距离多少公里？（    ）  
A. 15      B. 25      C. 35      D. 45
19. 甲、乙两人都买了一个相同的信笺盒，里面装有信封和信纸，甲把盒中每个信封装 1 张信纸，结果用完了所有的信封，剩下了 50 张信纸；乙把每个信封装 3 张信纸，结果用完了盒中所有的信纸，而剩下 50 个信封。问一个信笺盒中共装有多少信封和信纸？（    ）  
A. 250      B. 210      C. 150      D. 100
20. 甲车以每小时 160 千米的速度，乙车以每小时 20 千米的速度，在长为 210 千米的环形公路上同时、同地、同向出发。每当甲车追上乙车一次，甲车减速  $\frac{1}{3}$ ，而乙车则增速  $\frac{1}{3}$ 。问：在两车的速度刚好相等的时刻，它们共行驶了多少千米？（    ）  
A. 1250      B. 940      C. 760      D. 1310
21. 甲乙 2 人比赛爬楼梯，已知每层楼梯相同，当甲到 3 层时，乙到 2 层，照这样计算，当甲到 9 层时，乙到几层（    ）  
A. 5      B. 6      C. 7      D. 8
22. 有五个连续偶数，已知第三个数比第一个数与第五个数之和的  $\frac{1}{4}$  多 18，则这五个偶数之和是（    ）  
A. 210      B. 180      C. 150      D. 100
23. 沿运动场一直线跑道从一端到另一端，每隔 4 米打 1 根桩子，一共打有 25 根桩子，现改为每隔 6 米打 1 根桩子，求可以不拔出来的桩子有几根？（    ）  
A. 9      B. 11      C. 14      D. 18
24. 一飞机上的座位分成两部分：头等舱 50 个座位；普通舱 150 个座位，如果 20% 的头等舱和 30% 的普通舱的座位是空的，那么整个飞机的座位空置率是（    ）  
A. 20.5%      B. 25.5%  
C. 27.5%      D. 40.5%
25. 钟表的时针与分针在 4 点多少分第一次重合？（    ）  
A.  $21\frac{9}{11}$       B.  $20\frac{3}{12}$   
C.  $18\frac{7}{12}$       D.  $16\frac{8}{11}$

第一部分结束，请继续做第二部分！

密

封

线

内

不

要

答

题

## 第二部分 判断推理

(共 30 题, 参考时限 30 分钟)

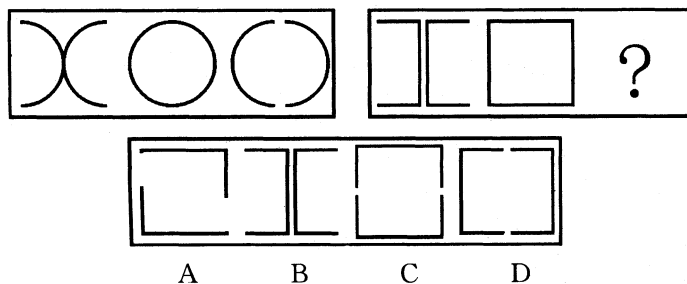
本部分包括四种类型的题目:

得分	评卷人

一、图形推理 (共 5 题, 每道题包含两套图形和可供选择的 4 个图形。这两套图形具有某种相似性, 也存在某种差异。要求你从四个选项中选择你认为最适合取代问号的一个。正确的答案应不仅使两套图形表现出最大的相似性, 而且使第二套图形也表现出自己的特征。)

【例题】

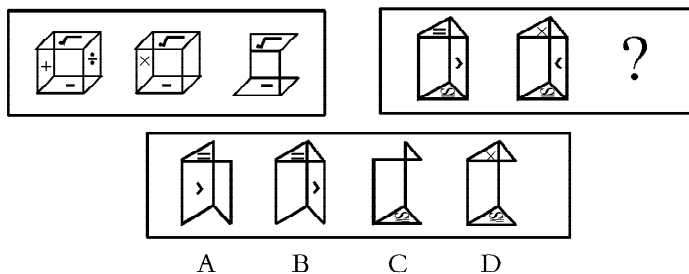
【例题】



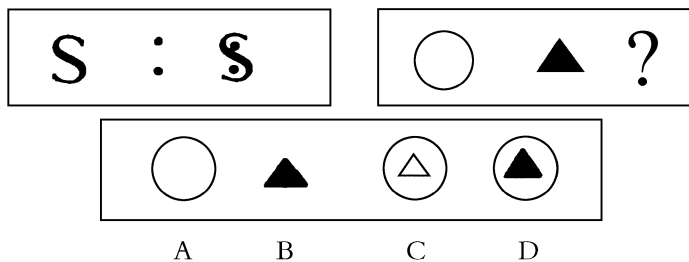
【解答】正确答案为 D。因为只有 D 能使两套图形具有相似性, 仅仅元素不同, 一个是半圆, 一个是半个正方形, 但两组图形中元素的排列规律完全相同。

请开始答题:

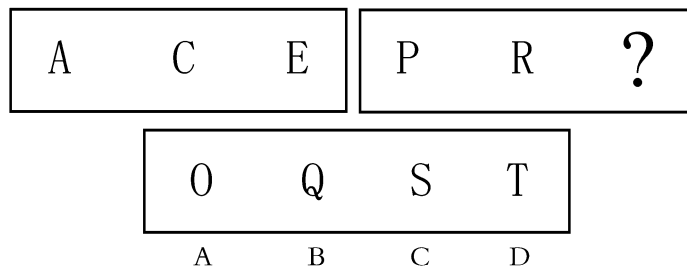
26.



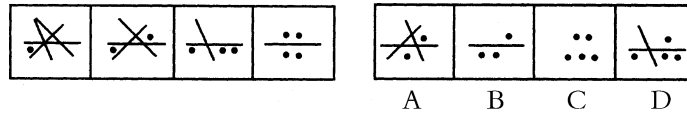
27.



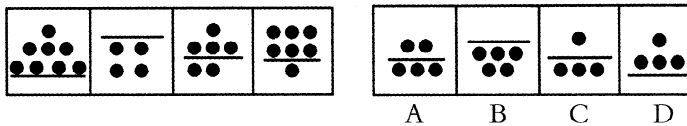
28.



29.



30.



得分	评卷人

二、演绎推理（共 10 题，每题给出一段陈述，这段陈述被假设是正确的，不容置疑的。要求你根据这段陈述，选出一个答案。注意，正确的答案应与所给的陈述相符合，不需要任何附加说明即可以从陈述中直接推出。）

【例题】某厂有五种产品：甲、乙、丙、丁、戊。它们的年销售额之间的关系为：丙没有丁高，甲没有乙高，戊不比丁低，而乙不如丙高。

请问，哪种产品的年销售额最高？（ ）

- A. 甲                      B. 乙                      C. 丁                      D. 戊

【解答】从所给条件可以知道：戊 > 丁 > 丙 > 乙 > 甲。因此，正确答案为 D。

31. W-12 是一种严重危害谷物生长的病毒，每年要造成谷物的大量减产。科学家们发现，把一种从 W-12 中提取的基因，植入易受其感染的谷物基因中，可以使该谷物产生对 W-12 的抗体，从而大大减少损失。

以下各项，如果为真，都能加强上述结论，除了（ ）。

- A. 经验证明，在同一块土地上相继种植两种谷物，如果第一种谷物不易感染某种病毒，则第二种谷物通常也如此
- B. 植物通过基因变异获得对某种病毒的抗体的同时，会改变其某些生长特性
- C. 植物通过基因变异获得的抗体会传给后代
- D. 植物通过基因变异获得对某种病毒的抗体的同时，会增加对其他某些病毒的抵抗力

32. 尽管对于备办酒宴机构的卫生检查程序比普通餐厅的检查程序严格得多，在报到市卫生主管部门的食品中毒案件中，还是来自酒宴服务的比来自普通餐厅的多。

以下哪个选项为真，最能够解释题干中表面上的矛盾现象？（ ）

- A. 人们不大可能在吃一顿饭和随之而来的疾病之间建立关联，除非该疾病影响到一个相互联系的群体

密

封

线

内

不

要

答

题

密

封

线

内

不

要

答

题

- B. 备办酒宴的机构清楚地知道他们将为多少人服务，因此比普通餐厅更不可能有剩余食物，后者是食品中毒的一个主要来源
- C. 许多餐厅在提供备办酒宴服务的同时，也提供个人餐饮服务
- D. 上报的在酒宴中发生食品中毒案件的数目，与备办酒宴者和顾客常去场所的服务无关
33. 据金点子软件公司估计：有数以百万计的盗版金点子软件正被使用，如果这些软件的用户都用正版软件，公司会获得上百万元的销售利润。尽管全公司上下都在采取积极的促销活动，但是，他们并没有去起诉那些使用盗版软件的用户。由此可知，最有可能成为金点子公司不诉诸法律的原因是（ ）。
- A. 金点子软件有非常先进的防盗版系统，会自动锁死软件，所以极难被盗版
- B. 在金点子软件上市前，法律就为使用这种正版软件提供了保护
- C. 使用盗版金点子软件的用户多于使用正版软件的用户
- D. 大多数金点子软件的用户只有在使用了它之后，才愿意出钱购买它的正版
34. 世界杯足球赛“中哥之战”在韩国光州体育场举行，某排座位上坐有三名球迷。已经知道：
- ①哥斯达黎加球迷右边的两人中至少有一名是中国球迷
- ②中国球迷左边的两人中也有一名是中国球迷
- ③身穿白色上衣球迷左边的两人中至少有一名是穿红色上衣的球迷
- ④红色上衣球迷右边的两人中也有一名是穿红色上衣的球迷
- 由此，可以得到三位球迷从左向右的排列是（ ）。
- A. 白色上衣哥斯达黎加球迷、白色上衣中国球迷、红色上衣中国球迷
- B. 红色上衣哥斯达黎加球迷、红色上衣中国球迷、红色上衣中国球迷
- C. 白色上衣哥斯达黎加球迷、白色上衣中国球迷、白色上衣中国球迷
- D. 红色上衣哥斯达黎加球迷、红色上衣中国球迷、白色上衣中国球迷
35. 最近一项调查显示，某公司的许多工人对自己的工作不满意。调查同时显示：大多数感到不满意的工人认为他们对自己的工作安排没有自主权。因此，为了提高工人对工作的满意程度，公司的管理层仅仅需要集中改变工人对他们工作安排自主权程度的观念。下列哪一项，假如也在调查中被显示，最能对上述结论提出质疑？（ ）
- A. 该公司的工人与其他公司的工人相比，对他们的工作更不满意
- B. 不满意的工人感到他们的工资太低并且工作条件不令人满意
- C. 公司管理层的大多数人相信工人对他们的工作已经有太多的控制权力
- D. 该公司中对工作满意的工人认为，他们能控制自己的工作安排
36. 一些人对某法官在针对妇女的性别歧视案中的公正性提出怀疑。但有记录表明：60%的这类案件中，法官的决定对妇女有利，这表明法官在针对妇女的性别歧视案件中并没有歧视妇女。下列各项中，最能反对上述结论的一项是（ ）。
- A. 该法官在非性别歧视案件中，对女性被告或原告有偏见
- B. 许多法官发现在针对妇女的性别歧视案件中难以保持客观性
- C. 有证据表明，妇女应当在该法官处理的70%以上的针对妇女的性别歧视案件中



胜诉

- D. 该法官审理的大多数针对妇女的性别歧视案件是由一个较低法庭上诉的
37. 在一实验室, 对 200 只老鼠施以同等量的辐射, 然后分为两组。一组老鼠可以不受限制地吃它们常吃的食物, 另一组被给予足够的相同食物, 但是限量。第一组中 55 只患了血癌; 第二组中患血癌的仅有 3 只。  
上述实验最支持的一个结论是 ( )。
- A. 血癌莫名其妙地使一些通常不患该疾病的老鼠种类个体患病  
B. 对任何种类的老鼠来说, 实验性地暴露于辐射很少对患血癌产生影响  
C. 可以通过限制进食来控制暴露于实验辐射的老鼠的血癌发生率  
D. 不管是否暴露于辐射, 允许老鼠吃常吃的食物增加了老鼠患血癌的概率
38. 一个人的胃容量和消化能力总是有限的, 吃的食物超过了身体需要量, 多余的糖会转化成脂肪, 使人得肥胖病。吃得太饱, 也会影响肠胃的蠕动和消化液分泌, 时间长了, 容易 ( )。
- A. 发胖  
B. 得消化不良病  
C. 吃不饱  
D. 导致细菌跑到肚子里
39. 就对个人和民族的作用而言, 文化素质主要是通过形成特定的文化氛围, 浸润其心灵, 提升其境界; 人文精神则主要是通过具体的价值意识, 指导其行为, 推动其前进。换言之, 文化素质的作用是间接、抽象的; 人文精神的作用则比较直接、具体。因此 ( )。
- A. 文化素质比人文精神重要  
B. 人文精神比文化素质重要  
C. 文化素质与人文精神是一回事  
D. 在大力提高民族文化素质的时候, 应当高度重视人文精神的建设
40. 某餐馆发生一起谋杀案, 经调查:  
第一, 谋杀的工具或者是叉, 或者是刀  
第二, 谋杀的时间或者在午夜 12 点, 或者在凌晨 4 点  
第三, 谋杀者或者是甲, 或者是乙  
如果以上断定是真的, 那么以下哪项也是真的? ( )
- ①死者不是甲用叉在午夜 12 点谋杀的。因此, 死者是乙用刀在凌晨 4 点谋杀的。  
②死者是甲用叉在凌晨 4 点谋杀的。因此, 死者不是乙用叉在凌晨 4 点谋杀的。  
③谋杀时间是午夜 12 点, 但不是甲用叉谋杀的。因此, 一定是乙用刀谋杀的。
- A. 仅①  
B. 仅②  
C. 仅①②  
D. ①②③

得分	评卷人

三、事件排序: 共 5 题。在回答问题时, 要根据自己的一般知识和对事件间的逻辑关系的理解做些补充或合理的假设, 以填补缺欠的信息。每道题给出五个事件, 每个事件是以简短语句表述的, 接着给出四种假定发生顺序的数字序列, 请你选择其中最合乎逻辑的一种事件顺序。注意要以最少的假设来联系和安排这五个事件的发生顺序。

【例题】(1) 收集书籍

(2) 购买材料

密

封

线

内

不

要

答

题



(3) 打造书架

(4) 雇用木工

(5) 排列书籍

A. 4—3—1—2—5

B. 1—4—2—3—5

C. 4—3—2—1—5

D. 1—2—1—5—4

**【解答】**此题正确答案为 B：收集书籍（1）—雇用木工（4）—购买材料（2）—打造书架（3）—排列书籍（5），这一顺序相对于其他顺序而言最合理。

**请开始答题：**

41. (1) 录入资料

(2) 设计问卷

(3) 分析样本

(4) 得出结论

(5) 现场调查

A. 1—3—2—5—4

B. 5—1—3—2—4

C. 2—1—3—5—4

D. 2—5—1—3—4

42. (1) 冰湖溃决

(2) 冰川消融

(3) 冬去春来

(4) 泥石流淹没良田、房屋

(5) 重建家园

A. 2—1—3—4—5

B. 1—2—3—4—5

C. 3—1—2—4—5

D. 3—2—1—4—5

43. (1) 策划晚会

(2) 现场拍摄

(3) 签订合同

(4) 联系赞助

(5) 节目播放

A. 1—2—4—3—5

B. 1—4—3—2—5

C. 4—3—1—2—5

D. 1—5—4—3—2

44. (1) 群众举报

(2) 立案侦查

(3) 银行被劫

(4) 追回赃款

(5) 罪犯逃逸

A. 1—2—4—3—5

B. 3—4—1—2—5

C. 3—5—2—1—4

D. 3—5—1—2—4

45. (1) 一辆卡车与一辆轿车相撞

(2) 卡车司机被拘留

(3) 轿车的保险杠被撞弯

(4) 轿车司机被送到医院急救

(5) 轿车司机没有系安全带

A. 1—5—3—4—2

B. 1—3—4—2—5

C. 5—1—3—4—2

D. 5—1—3—2—4

得分	评卷人

**四、定义判断：**共 10 道题，每道题中都给出了一个概念的定义，请你根据这个定义，从四个备选的事物或行为中选出一个最为符合或最不符合该定义的典型事物或行为。注意：在这项测验中，本定义被假定为正确的、不容置疑的。

46. 测验的内容效果：是指测验题目对所测内容范围的代表程度。

根据上述定义，下列行为属于对内容效果的考查的是（ ）。

A. 某高校为了评估教师的教学质量，在学生中开展了一次对任课教师的问卷调

- 查,调查的内容很广泛,包括教学方法、教学态度、教师着装、教学语言等
- B. 为了考查期中考试试题的难易程度是否合适,王老师调查了20个学生,发现学生普遍反映这次考试偏难
- C. 为了考查竞争激烈的高考是否有效,有关单位对升入大学的考生进行了跟踪调查,看他们是否能很好地适应大学学习
- D. 全国统一的项目管理师资格考试今年新增加了一些考试要点,国家组织了专门人员对新增加后的考试内容进行评估,看其是否真正考到了实际工作中该考的内容
47. 共同过错:也叫共同侵权行为、共同致人损害行为。指两个或两个以上的行为人,基于共同的故意或过失致他人损害。共同过错的特征在于:1) 行为人必须是两个或两个以上;2) 数个行为人之间主观上具有共同过错;3) 行为的共同性;4) 数个行为人的行为与损害结果之间具有因果关系。
- 根据上述定义,下面情况不属于共同过错的是( )。
- A. 某村委会修灌渠,施工结束后,留下一个土坑未填平。村民崔某为建房利用此坑泡上了石灰。当晚,村民曹某骑车路过此地时,跌入石灰坑,被刚泡的石灰烫成重伤
- B. 张非和李涛是某工厂的车间工人。一天,二人在操作一台机器时违反安全规章,导致机器内部的线路出现了不可修复的故障,价值两万元的机器因此报废
- C. 一周末,某学校初中二年级的同学在野外举行篝火晚会;晚会结束后,大家都很累,没有仔细查看场地,结果未灭尽余火,酿成了一场火灾
- D. 小梁指导小张驾驶汽车时,因为当时路上行人稀少,所以二人一边驾车一边说笑,没有注意到前方路上有行人;等看到行人时,已经来不及刹车了,结果造成了一起严重的交通事故
48. 道德风险:是指当一项协议达成之后,达成协议的一方以损害另一方的利益而有利于自身利益的方式行事。
- 下列事件属于道德风险的是( )。
- A. 市场上都是次品,并且价格低,以至于那些价格高的好产品没有销路
- B. 由于市场上充满了次品,所以不敢轻易购买
- C. 购买了车险之后就随便停车,不怕丢
- D. 购买了衣服之后看到了它的一个缺陷,然后退了
49. 判断:就是对思维对象的情况有所断定的思维形式。
- 下列不属于判断的一项是( )。
- A. 如果谁不能主宰自己,那么他就不能够自强
- B. 东风压倒西风
- C. 爱情的力量是伟大的
- D. 全国人民代表大会
50. 电子商务:指通过数字通信进行商品和服务的买卖以及资金的转账。
- 下列不属于电子商务的是( )。
- A. 微软公司建立自己的主页,提供网上订购电脑软件业务
- B. 企业与企业之间通过网络银行实现转账支付

密

封

线

内

不

要

答

题

密

封

线

内

不

要

答

题

C. 新浪网每天向人们免费提供大量信息

D. 亚马逊网络书店在网络上接受订单,但通过邮寄的方法交付产品

51. 法律意识:是人们关于法和法律现象的思考和观点的统称,包括对法的本质作用  
的看法,对现行法律的要求和态度,对法律的评价和解释。

下列各项中,不属于法律意识的是( )。

A. 王某一直认为“读书人”窃书不算偷

B. 公安派出所的小何,认为自己是公安人员,所以既可以打人,也可以骂人,不  
然就镇不住坏人

C. 阮某认为这个社会没有什么道理可讲,谁有权谁就有理,谁官大谁就有理

D. 律师告诉被告人如果辩护时就轻避重,就能减轻或免除处罚

52. 行政行为:行政主体实施的产生法律效力的行为。

下列不属于行政行为的是( )。

A. 上级行政机关决定撤销自己颁布的一部规章

B. 某省财政厅为盖办公大楼,与某建筑公司签订了承建合同

C. 中国人民银行决定设立某商业银行

D. 海关决定没收某公司违法进口的货物

53. 不正当竞争行为:经营者违反法律规定,损害其他经营者的合法权益,扰乱社会  
经济秩序的行为。

下列哪一项不属于不正当竞争行为?( )

A. 某市政府发文规定,由于最近本市连续发生多起煤气中毒事故,因此各单位须  
统一使用本市煤气公司生产的煤气安全阀

B. 甲公司为提高本公司产品的市场占有率,通过座谈会的形式向顾客宣传乙公司  
的产品不如甲公司

C. 某市果品公司购进一大批水果,由于不便保存,决定降价销售,致使本市水果  
价格大幅下降

D. 丁公司利用有奖销售的手段推销质次价高的商品

54. 妨碍公务罪:指以暴力威胁的方法,阻碍国家工作人员执行公务的行为。

根据上述定义,下列行为属于妨碍公务罪的是( )。

A. 某公安人员骑车上街买东西时,与一人相撞,被撞者怒气冲冲,揪住公安人员  
不放,引起众人围观,严重影响了交通秩序

B. 某检察院检察员小刘在侦查一起贪污案时,被该案嫌疑犯吴某的家属围攻、谩  
骂、殴打,并扬言若继续调查就将小刘家的房子砸烂

C. 某公司会计叶某被告犯有贪污罪,检察人员到叶某公司查账,检察员杨某因为  
生气将一本账本的封面撕碎了,叶某公司的经理对此十分不满,与杨某争吵并  
收回了账本

D. 胡某是一名个体户,因偷税而被罚款,为此胡某非常痛恨税务干部。一天胡某  
纠集了几个流氓,将税务所干部董某家的门窗玻璃全部砸碎

55. 无因管理:是债发生的一种依据,它是指没有法定的或约定的义务,为避免他人  
受到损失而进行管理和服务的行为。

根据以上定义,下列情况中发生无因管理的是( )。

- A. 未受委托，为他人代收货物
- B. 未受委托，代他人放弃继承权
- C. 路遇自杀者进行抢救
- D. 受人委托，代人看管家禽

第二部分结束，请继续做第三部分！

## 第三部分 常识判断

(共 30，参考时限 20 分钟)

本部分包括两种类型的题目，请根据题目要求作出正确选择。

请开始答题：

得分	评卷人

### 一、单项选择题（共 20 题）

56. 2005 年上半年我国经济总体运行态势良好。国家统计局的初步核算表明，上半年经济增长速度为\_\_\_\_\_%，这一速度比去年同期低 0.2 个百分点。
- A. 9                      B. 9.5                      C. 9.7                      D. 9.8
57. 2005 年 7 月 16 日，在\_\_\_\_\_主席选举中，\_\_\_\_\_以 72.36% 的得票率击败另一位候选人王金平，当选为该党新一任党主席。
- A. 新民党宋楚瑜                      B. 民进党陈水扁  
C. 新党郁慕明                      D. 国民党马英九
58. 温家宝总理 2005 年 6 月 30 日强调，加快建设\_\_\_\_\_，是缓解资源供需矛盾的根本出路，是贯彻落实科学发展观、走新型工业化道路的必然要求，是保持经济平稳较快发展、全面建设小康社会的迫切需要，是保障\_\_\_\_\_和国家安全的重要举措。
- A. 节约型社会 信息安全  
B. 节约型社会 科技安全  
C. 节约型社会 经济安全  
D. 社会主义和谐社会 经济安全
59. 北京奥组委 2005 年 6 月 26 日宣布\_\_\_\_\_成为 2008 年北京奥运会主题口号。
- A. “同一个世界、同一个梦想”  
B. “新北京、新奥运”  
C. “欢迎回家”  
D. “分享奥林匹克精神”
60. 由全国政协主办的“21 世纪论坛”2005 年会议于 9 月 5 日在北京全国政协礼堂开幕，论坛的主题是\_\_\_\_\_。
- A. “展望 21 世纪世界的亚洲和中国”

密

封

线

内

不

要

答

题

密

封

线

内

不

要

答

题

- B. “可持续发展——中国与世界”
- C. “经济全球化——亚洲与中国”
- D. “亚洲寻求共赢——亚洲的新角色”

61. 2005年7月26日,美国\_\_\_\_\_航天飞机从肯尼迪航天中心发射升空,8月9日安全降落。它为期14天的太空之旅是2003年2月“哥伦比亚”号事故后航天飞机的首航。

- A. “挑战者”号
- B. “亚特兰蒂斯”号
- C. “奋进”号
- D. “发现”号

62. 冰川的形成主要是由于( )。

- A. 高空的强风将大量的积雪带到了冰川地区
- B. 积雪的重量使积雪越压越紧,终于形成了冰川
- C. 太阳黑子的周期性出现促进了冰川的形成
- D. 积雪的凝结速度高于积雪的融化速度

63. 以下表述不正确的是( )。

- A. 联合国大会是联合国的主要机构之一
- B. 安理会是联合国唯一有权采取行动来维持国际和平与安全的机构
- C. 世界卫生组织是联合国的专门机构之一
- D. 国际妇女组织是联合国的专门机构之一

64. 目前,我国环境污染问题日益受到重视,但一些小化工厂、小造纸厂却依然屡禁不绝。造成这种现象最不可能的原因( )。

- A. 群众环保意识差
- B. 小型的化工厂和造纸厂的污染小,可以暂不考虑
- C. 地方领导人缺乏环保意识,地方保护主义严重
- D. 尚未发现治理环境的有效办法

65. 某超市销售的牛奶制品主要由甲、乙、丙、丁四家牛奶公司提供,由于竞争激烈,四家牛奶公司分别采取了以下行动,以便获得更大的市场份额。下列行为合法的是( )。

- A. 甲公司发放调查问卷,说明竞争对手的产品已存在及可能存在的缺点
- B. 乙公司实施购买三袋鲜奶,随赠一盒酸奶的活动
- C. 丙公司不惜以低于成本的价格销售牛奶
- D. 丁公司用抽奖形式有奖销售牛奶,最高奖的金额为5500元

66. 消费者在购买、使用商品时,其合法权益受损的,可以向( )要求赔偿。

- A. 经营者
- B. 销售者
- C. 生产者
- D. 生产者与销售者

67. 国家对下列各项个人所得,应征收个人所得税的是( )。

- A. 防暑降温费
- B. 国债
- C. 按国家统一规定发给的津贴
- D. 储蓄存款利息

68. 国家公务员享有的权利有( )。

- A. 提出申诉和控告
- B. 公正廉洁
- C. 勤奋工作,尽职尽责
- D. 密切联系群众

69. 商品的本质属性是 ( )。
- A. 价值  
B. 价格  
C. 使用价值  
D. 交换价值
70. “学而不思则罔，思而不学则殆” 出自 ( )。
- A. 《大学》  
B. 《论语》  
C. 《中庸》  
D. 《孟子》
71. 依照我国宪法规定，不能属于集体所有的自然资源是 ( )。
- A. 水流  
B. 森林  
C. 草原  
D. 滩涂
72. “WHO” 是 ( ) 的英文缩写。
- A. 世界石油输出国组织  
B. 世界绿色和平组织  
C. 世界卫生组织  
D. 亚太经济合作组织
73. 我国机构改革的关键是 ( )。
- A. 精简机构  
B. 裁减人员  
C. 转变职能  
D. 核定编制
74. 中共中央决定从 2005 年 1 月开始在全党开展以实践“三个代表”重要思想为主要内容的 ( ) 活动。
- A. 保持共产党员先进性教育  
B. 加强共产党员队伍建设  
C. 廉政建设  
D. 求真务实
75. 在公务员活动中会见客人时，需要介绍双方彼此认识，应先介绍 ( )。
- A. 主方  
B. 客方  
C. 先处于客厅里的一方  
D. 无所谓，都可以

得分	评卷人

## 二、多项选择题 (10 题)

76. 中国要求进入世贸组织的意义是 ( )。
- A. 建立世界多边贸易体制的要求  
B. 建立国际经济一体化的需要  
C. 中国对外开放的要求  
D. 建立社会主义市场经济体制的需要
77. 法律上保护人身权的方式有 ( )。
- A. 民事制裁  
B. 刑事制裁  
C. 行政制裁  
D. 批评教育
78. 劳动者在下列哪些情形下，依法享受社会保险待遇 ( )。
- A. 退休  
B. 失业  
C. 因公伤残或者患职业病  
D. 生育
79. 甲、乙、丙三人因违反出境管理规定被行政机关处以罚款各 100 元。三人不服，甲提起了行政复议，则 ( )。
- A. 甲提起了行政复议，就不能再提起行政诉讼

密

封

线

内

不

要

答

题



密

封

线

内

不

要

答

题

- B. 乙、丙只能随同甲提起行政复议，由行政机关并案审理  
C. 乙、丙可以提起行政复议，也可以起诉  
D. 若乙、丙向人民法院起诉，则法院应将甲、乙、丙并案处理，不必再由行政机关复议

80. 政府的基本职能是（ ）。
- A. 政治职能  
B. 经济职能  
C. 文化职能  
D. 社会职能
81. 全国人民代表大会具有的职权有（ ）。
- A. 人事任免权  
B. 法律监督权  
C. 立法权  
D. 司法权
82. 国力是一个国家的力量，通常包括（ ）。
- A. 反映五大生产物质部门净产值之和的国民收入  
B. 反映财政实力的国家财政收入  
C. 反映全社会各部门增加值之和的国民生产总值  
D. 反映金融势力的银行资金
83. 生物进化的总趋势是（ ）。
- A. 种类由少到多  
B. 由低等到高等  
C. 身体结构由简单到复杂  
D. 生活环境由陆生到水生
84. 2005年2月24日，新华社受权全文播发了《国务院关于鼓励支持和引导个体私营等非公有制经济发展的若干意见》。依据该《意见》，下列属于长期以来非公有制企业难以进入，如今获得了国家准入的领域的是（ ）。
- A. 国防科技工业  
B. 旅游业  
C. 金融服务业  
D. 社会事业
85. 胡锦涛同志2005年2月19日讲话指出，我们所要建设的社会主义和谐社会，应该是（ ）的社会。
- A. 经济高速发展  
B. 公平正义  
C. 安定有序  
D. 人与人和睦相处

第三部分结束，请继续做第四部分！

## 第四部分 言语理解与表达

（共30题，参考时限30分钟）

本部分均为单选题，着重考查考生对语言文字的理解和驾驭能力。

这种能力包括：对词、句子、篇章一般意思和特定意义的理解；对比较复杂的概念和观点的准确理解；对语句隐含信息的合理推断；根据上下文，恰当选用词语；准

确地辨明句义，筛选信息。

注意：问题可能是选择一个词语或一个句子，使表达最为准确，也可能是考查对文字内容的理解，你的选择应与题目要求最相符合。

【例题】铁路新线路的开辟与否往往必须在建路花费尽可能少的要求与新建路线的贸易运输量尽可能多的要求之间取得妥协。

这段话主要支持了这样一种论点，即新建铁路的线路（ ）。

- A. 应该是一造价最低的线路
- B. 其选择决定了新兴贸易中心的位置
- C. 决定于是否与终点之间的距离最短
- D. 不会总是具有最低建造成本的路线

【解答】仔细考察四个选项，您可以发现，选项 A 与题中“妥协”的含义不相符；选项 B 和 C 都无法从题中得出；只有选项 D 是短文支持的一种主要观点，因此正确答案为 D。

请开始答题：

得分	评卷人

(1) 根据题目要求，完成 86~95 题

86. 某市占人口 10% 的低收入者与同样占人口 10% 的高收入者收入之比为 1:8.3，除了 10% 的低收入者，作为大多数的中等收入者，其收入实际上也达不到统计数字中的平均数。而随着“马太效应”的进一步凸显，平均数代表不了大多数，大多数低于平均数的现象还会进一步深化。这段文字表述的核心问题是（ ）。
- A. 某市市民收入的两极过度分化
  - B. 平均数概念的局限性
  - C. “马太效应”产生的结果
  - D. 某市各阶层的收入状况
87. 审计的确发现了不少问题，但审计毕竟是滞后的，即使发现，很多损失业已造成，难以挽回，要想解决挤占挪用问题，必须在预算执行过程中引入监督制约机制，其中包括财政监督、人大监督和公众监督。这段文字的意思是强调（ ）。
- A. 审计工作的滞后性
  - B. 过程监督的重要性
  - C. 人大监督的重要性
  - D. 监督制约机制的必要性
88. 要普遍推广政务公告栏、“明白卡”等形式，充分利用广播、电视、报刊媒体进行政务公开，积极运用现代科技手段，有计划、分步骤地推进电子政务建设，有条件的地方要推进政府上网工程，达到信息透明、服务便捷和有利监督的目的。这段文字阐述的是政务公开的（ ）。
- A. 手段
  - B. 步骤
  - C. 时机
  - D. 必要性
89. 邓小平曾说：“如果导致两极分化，改革就算失败了。”可见社会公正与公平问题是何等重要！因为，只有一个公平的社会，才是一个有向心力的社会，才是一个

密

封

线

内

不

要

答

题

密

封

线

内

不

要

答

题

有共同情感的社会，才是一个互相认同的社会，才是一个能养成高尚道德的社会。这段文字的意思是强调社会公正与公平的（ ）。

- A. 可能性
- B. 必要性
- C. 优越性
- D. 特殊性

90. 爱情像一只表，不上发条就会停摆；婚姻像一只钟，除了必须上发条，还得忍受每隔一小时就“当当”作响的钟声。这段文字强调的是（ ）。

- A. 婚姻和爱情是有着天壤之别的
- B. 婚姻和爱情没有什么不同
- C. 婚姻比爱情更需要用心呵护
- D. 婚姻比爱情更难维持和继续

91. 经过十年成功与失败的磨炼，我们有了一个“以经济建设为中心”的正确的认识，并且找到了一条推进改革开放的发展之路。谁都知道，这个认识和这条道路得来不易，我们必须加倍珍惜，任何时候都不能动摇。但是，从改革开放第一天起，我们在重视经济建设的同时，也十分重视精神文明建设，如果只有前者没有后者，就不是有中国特色的社会主义。

这段话支持的主要观点是（ ）。

- A. “以经济建设为中心”是一条得来不易的正确认识
- B. 经济建设上去了，精神文明建设也要搞好
- C. 经济建设与精神文明建设同步发展才是有中国特色的社会主义
- D. 有中国特色的社会主义必须坚持以经济建设为中心

92. 我国共有科学技术馆 250 多座。这对于我们这个 13 亿人口的大国来说不能算多。可现在能经常办展览的只有少数几个。除中国科技馆、天津市科技馆等能坚持办展外，极少有发挥其原有功能的。来自中国科协的权威统计显示，全国约有 60% 左右的馆不得不用部分场地长期搞展销，甚至干脆转化为酒吧和歌舞厅，使得本来就不多的群众文化活动设施更加匮乏。这段话的主要观点是（ ）。

- A. 我国的科技馆数量与众多的人口数量很不相称
- B. 坚持经常办展，发挥其原有功能的科技馆只占全部的 40%
- C. 未能发挥其原有功能是目前科技馆面临的严重问题
- D. 文化活动设施匮乏的主要原因是一些科技馆用部分场地长期搞展销

93. 不论动机多么伟大，不论出于多么善良的心地，想要改变一个人，哪怕只是改变一个孩子，都是徒然的，如果他并不能理解这种改变。这段话可以概括为（ ）。

- A. 人是很难改变的
- B. 没有善良的动机就不能使人改变
- C. 孩子和成人一样不容易改变
- D. 只有当人自己想改变时他才会改变

94. 现在的许多文章只因为涂饰太厚，废话太多，所以很不容易被觉察出底细来。正如透过密叶投射在地面上的月光，看到的只是点点的碎影。这段话中被比做文章“真正观点”的是（ ）。

- A. 密叶
- B. 地面

C. 碎影

D. 月光

95. 广东的一家企业曾在北京登报,以年薪 50 万招聘厂长,承受力不强的北京人当时如同经历一次炸弹爆炸,几年过去了,在报纸上登广告以年薪几十万招聘人才的事已经不那么令人惊奇了。在北京的猎头公司里,随便调出一份求职者名单,你便会发现 80% 以上的求职者自己开出的月薪要求都在几万元以上。但另外一方面,从传统国有企业被辞退的员工,即使是四、五百元的月薪要求,也很难找到工作。这段话支持的主要观点是 ( )。
- A. 现在的人们对月薪上万元的收入要求已经视若平常了
  - B. 招聘人才的投入越来越大
  - C. 人才的价值在今天越来越体现出来
  - D. 人与人之间在从业和收入方面的差异更加明显

得分	评卷人

(2) 阅读以下文字,完成 96~98 题

近日接连见诸报端的两件新闻,引发人们再次热烈地讨论一个困扰国人上百年的老话题:处于现代化过程中的我们,如何看待传统。第一件新闻是:一项调查显示,92% 的受访者认为,中秋节是中国的传统节日,应该延续下来;高达 86% 的人认为,中秋节应该成为法定的公众假日。对此结果,网络舆论附和者众多。特别值得注意的是,对此表示支持的网民,大多是年轻人。另一件新闻则是,某机构准备启动国学文化社区建设项目,其中的一项是,将 1978 年恢复高考以来历年省级状元的名字刻制成碑,和国子监孔庙元明清三代的进士碑立在一起。对此,网络上几乎骂声一片。对于前者的积极附和与对于后者的全盘批评,看起来并无矛盾之处。人们是在运用既有的知识和分析能力对传统进行取舍的:中秋节被视为精华,科举制度则被归为糟粕。因此,人们普遍地赞成继承中秋节,而反对立状元碑。立状元碑被认为是对科举传统的一种继承,而科举制度及其精神显然是有悖于现代教育理念的。这是非常明确的结论。但让我们略微思考一下,对于哪怕是科举制度及其所形成的文化传统,我们的理性是否高度发达,足以对其做出如此确定的判断?我们是否完全有资格以现代人的标准来对过往的某项制度或习俗做出非常确定的判断?自启蒙运动以来,现代人普遍相信自己可以运用理性做出这样的判断。但是,一个真正的理性主义者,在运用理性的时候,始终会意识到理性的限度。相对于个人的生存甚至一个时代而言,传统是大写的。没有传统,就没有文明的生活。不管是对一个人的生命还是对一个民族的生命,离开了传统的包裹,赤裸裸的存在是不可能的,即使可能。也是没有价值的。比起漫长的历史,比起我们全部祖先的智慧的凝聚,任何一代人的智慧,其实都是沧海一粟。因此,对于传统,明智的态度是保持审慎,保持足够的同情和敬畏,因为它是当下人们有价值的生活中的有机组成部分。当然,经过反思,我们确实有可能证明,某些传统是有害于正义和善的,据此,我们可以剔除其有害的影响。但是,绝大多数传统,不会这样极端。因而,试图理性地辨别其究竟属于精华还是糟粕,可能是非常困难的。假如有人愿意,他们是否可以立状元碑?对这个问题,笔者宁愿换一个角度来思考:我们能否确信我们已经找到了一种十分优良的教育理念,以至于可以确

密

封

线

内

不

要

答

题

密

封

线

内

不

要

答

题

切地断言，传统的状元文化极端有害，因而，必须予以剔除，且在剔除这种传统后即可实现我们所设想的那种先进教育方式？

96. 两条新闻人们的不同态度说明了（ ）。

- A. 中秋节应该成为法定假日
- B. 科举考试是古代遗留下来的糟粕
- C. 大多数人对传统价值的取向很接近
- D. 古人留下来的传统中有精华也有糟粕

97. 下列选项中符合这段话意思的是（ ）。

- A. 对待传统不可一分为二
- B. 传统应该全部继承下来
- C. 离开传统现代人就无法生活
- D. 对待传统要汲其精华去其糟粕

98. 通过作者对是否可以立状元碑的回答，可以判断出其态度是（ ）。

- A. 留恋传统的状元文化
- B. 对当前教育方式的失望
- C. 认为应该批判地继承状元文化
- D. 认为理想的模式不会凭空产生

得分	评卷人

(3) 阅读以下文字，完成 99 ~ 101 题

臭氧的化学式是  $O_3$ ，它也是氧元素形成的一种单质，但与氧气 ( $O_2$ ) 性质不同。这种淡蓝色的气体由于具有令人厌恶的近似鱼腥的臭味。才有了这个不雅的名称。氧气在紫外线照射和高压放电等情况下可转化为臭氧。在大气中，主要是来自太阳的紫外线使氧气转变为臭氧。此外，通过高压放电，如大自然中的闪电、电机运转中放出的火花、静电复印及电视机的工作过程，也都能使空气中的部分氧气转变为臭氧。臭氧有毒。当空气中臭氧的浓度超过 0.25ppm 时，就会对人体及动物的呼吸系统、眼睛产生较强的刺激作用，使人感到胸痛、咳嗽、头痛、眼睛发涩。所以机电房、静电复印机房、计算机机房等易产生臭氧的地方，要注意通风，避免臭氧含量过高。在同温层高空长距离飞行的喷气机舱内，有时因臭氧过多会使人感到不适，所以常常使用特别的木炭过滤器来减少机舱内臭氧的量。不过微量的臭氧可以净化空气，还能刺激中枢神经，加速血液循环，有益于人体健康。雷雨后的空气往往显得格外清新，就跟空气中有通过闪电形成的微量臭氧存在有关。此外，臭氧对人类还有其他用途。如臭氧可以用来生产不易生成的金属氧化物、漂白潮湿的纸浆和纺织纤维等，还可用做羽毛、皮毛的脱臭剂。臭氧最重要的用途是消毒杀菌。一种利用臭氧消毒的新型消毒柜，洗净的餐具、茶具放入柜内，接通电后就会产生一定量的臭氧，能杀灭令人厌恶的细菌、芽孢、病毒、孢子，而且无残毒，消毒范围无死角，能耗低，深受人们的欢迎。

臭氧的质量只占整个大气层的 1/100000，但它却能吸收来自太阳的 99% 的紫外线辐射。正是臭氧层这一“生命之伞”，在地球高处庇佑着人类及地球上的所有生灵。



地球大气臭氧层的被破坏，已造成紫外线增强，导致有些物种灭绝。这个问题的严重性日见突出。臭氧危机成为当今世界上最突出、最棘手的五大环境问题之一。如果臭氧层继续按目前的速度变薄，那么到 2000 年人类患皮肤癌的比例将增 26%。这种巨大威胁是人类自己造成的。目前科学界已达成共识——人类生产和生活活动产生的 CFC 类物质进入大气层是造成臭氧层破坏的主要原因。CFC 类物质主要是各类氧溶胶、喷雾剂、制冷剂、除臭剂释放的氟氯烃。如广泛使用于冰箱、空调器的氟利昂、氟氯甲烷等。这些化合物在大气低空很稳定，经过漫长的时日，顽强地飘到同温层，在那里，经阳光中的紫外线照射后，发生化学反应，释放出化学反应能力很强的自由氯离子就可以借助于连锁反应破坏 10 万个臭氧分子。碳酸化合物是 20 世纪 30 年代由美国开发出来的产品，它具有耐高温、耐腐蚀和毒性低等优良品质。由于液态的碳酸化合物挥发极快，反以它作为半导体和精密机械的清洗液被大量使用，并大量用于冰箱和空调器中做制冷剂。到 80 年代中期。它们的年产量已超过 100 万吨。人们未曾料到，它却是臭氧层的大敌。

99. 大气中的臭氧主要来自（ ）。

- A. 大自然中的闪电对氧气的作用
- B. 高压放电对氧气的作用
- C. 太阳的紫外线照射对氧气的作用
- D. 电机运转中放出的火花、静电复印及电视机的工作过程对氧气的作用

100. 对臭氧的描述，不准确的一项是（ ）。

- A. 空气中的臭氧对人体及动物的呼吸系统、眼睛会产生较强的刺激作用
- B. 雷雨后往往存在通过闪电形成的微量臭氧，这些微量臭氧起着空气清新剂的作用
- C. 微量臭氧可以净化空气，有益于人体健康
- D. 喷气机机舱内过多的臭氧适宜用特别的木炭过滤器进行处理

101. 对臭氧用途的说明，不正确的一项是（ ）。

- A. 可用做脱臭剂
- B. 可用来杀灭细菌、芽孢、病毒等
- C. 可净化空气
- D. 可辅助治疗人类的顽疾——皮肤癌

得分	评卷人

(4) 根据题目要求，完成 102 ~ 115 题

102. 在二次大战后的快速工业化过程中，日本的工业用水量在 1973 年达到顶峰，到 1989 年下降了 24%，而工业产量仍稳定增长。美国也与此相仿，美国的工业用水量自 1950 年起下降了 36%，而工业产出却增长了 3.7 倍。这段话的主要意思是( )。

- A. 降低用水成本可扩大产出
- B. 节约工业用水大有潜力

密

封

线

内

不

要

答

题



密

封

线

内

不

要

答

题

C. 工业的增长取决于减少工业用水

D. 工业的发展提高了工业用水的效率

103. 在乱象纷呈的股市中,被套股民比比皆是。“远离毒品远离股市”的呼声成为交响。股民们只有一个愿望:大市能够看涨,股指能够上升。然而,不断膨胀的融资需求同有限的股市承载之间的矛盾接踵而来。

本段文字主要想表达的内容是( )。

A. 融资需求与股市承载能力的矛盾是股市不稳定的重要因素

B. 股市对人的危害难以预测,提醒人们远离股市

C. 融资需求不断攀升,股民所受的危害也更大

D. 人们希望大市能够看涨,股指能够上升

104. 医药的供求不能遵循利润最大化,而应服务于社会效益最大化。因为疾病的治愈,受益的不仅是公民个人或者是个别家庭,更多的是整个社会——它既恢复了个体为社会创造财富的劳动能力,更重要的是防止疾病在更大的范围传播从而保护更多的人群。

根据上文,以下概括不够准确的选项是( )。

A. 疾病的治愈恢复了个体的劳动能力

B. 疾病的治愈可防止疾病在更多的人群中传播

C. 医药的供求不能遵循利润的最大化,要关注医疗手段

D. 疾病最大的受益人不仅是个人和家庭,还有社会

105. 据测定,香水和化妆品中,有多种物质极易挥发。大多数芳香剂对神经系统有毒,少数还可导致造血系统损害,对皮肤粘膜有刺激作用等。对一般人来说,偶尔地使用芳香剂不至于造成危害,但它们化学成分复杂,且均系交叉使用,故会产生一些目前还无法预料的化学反应。应注意观察其长期积累所产生的后果。对于家庭内有哮喘、呼吸系统疾病、皮肤病、过敏等症者,最好少用或不用芳香剂。这段话支持的主要观点是( )。

A. 含有芳香剂的香水和化妆品对所有人都有潜在的危害

B. 对一般人来说,偶尔地使用芳香剂,不至于造成危害

C. 对于家庭有哮喘等疾病的人最好不用芳香剂

D. 并非所有的香水和化妆品对人都有毒

106. 通常而言,鸟类坚韧而又灵活的羽毛是由角蛋白纤维构成的。这些角蛋白纤维勾在一起构成一个平面,进而形成羽毛。羽毛有很多种:飞羽的各个羽支连成一片,使鸟能够飞行;廓羽覆盖鸟全身,使身体呈流线型,同时,因重叠在一起,又可以用以防水;绒羽则蓬松柔软,用来保持鸟类体温;尾羽长而坚硬,便于在飞行中转向、平衡、减速。

最适合做本段标题的是( )。

A. 鸟类羽毛的使用

B. 鸟类的各种羽毛

C. 鸟类的羽毛

D. 鸟类羽毛的结构及种类

107. 战争中,越是以弱胜强,人的能动因素越起决定作用;越是高技术战争,武器装

备因素对胜负的影响越大。

对上段话理解正确的是（ ）。

- A. 在高技术战争中，以强对弱，则可以只考虑武器装备的因素
- B. 在高技术战争中，以弱胜强，则可以忽略武器装备的因素
- C. 在高技术战争中，人的能动因素和武器装备对胜负都是决定性的
- D. 在高技术战争中，人的能动因素始终是起决定作用的

108. 如果有一天地球上的南极变成了北极，指南针指向北方，鸟类和其他对磁场敏感的动物将怎样辨别方向？这不是科幻小说的奇思妙想，据科学美国人报道，最新的研究成果显示，地球的磁极已经显露出向相反方向移动的征兆，科学家们认为，地球磁场也许即将反转。

此段文字所反映的中心意思是（ ）。

- A. 地球磁场的反转将使鸟类等对磁场敏感的动物无法判断方向
- B. 据科学家推断，地球磁场有可能会反转
- C. 地球磁场的反转将只会是科幻小说的奇思妙想
- D. 地球磁场的反转已被科学家的研究成果证实

109. 常常凝想宇宙的浩渺无际、时间的茫无头尾，会使心灵在重负下受伤。永不意识到宇宙的浩渺无际、时间的茫无头尾，会使心灵轻浮浅薄。每一片圣洁的雪花都有一个赖以凝结的核心，那核心必是一粒灰尘。每一个伟大的胸怀都有一个出发点，那出发点必是凡人的需求。

下列陈述，不符合文意的是（ ）。

- A. 应当承认，宇宙无边际，时间无尽头
- B. 轻浮浅薄的人无所作为，就像一粒灰尘
- C. 心灵负荷不应太重，也不应轻浮浅薄
- D. 伟大的思想，也包含着凡人的需求

110. 科技部门要放眼国内同行业及国外同一产业部门，并能以企业为市场，乘着对企业负责的态度，去认真掌握别人的技术，且要有创新。这样，就将科技部门的人才优势和企业的改造、上台阶结合起来；从国家机构的角度来分析问题，也就真正地做到了人尽其才。对于一个企业而言，往往因一个重要设备的应用就能起死回生。

最能准确复述这段话主要意思的是（ ）。

- A. 科技部门要做到放眼世界、人尽其才
- B. 科技部门对企业的生存发展至关重要
- C. 国家机构应加强对人的管理
- D. 科技部门要提高科技起点，为企业提供过硬技术，使之有竞争力

111. 英国东部伊普斯威奇市的英国电信公司实验室的科学家称，由于人脑中神经元的大小和数量与为它们提供的血管之间存在微妙的平衡关系，因此根本的改善是不可能的。

最能准确复述这段话主要意思的是（ ）。

- A. 人脑中的神经元不可能变大变多
- B. 脑血管不可能变粗变强

密

封

线

内

不

要

答

题

密

封

线

内

不

要

答

题

- C. 人脑的神经元和血管不可能单方面改善
- D. 人脑的神经元和血管不可能共同有大的改善

112. 一般来说,小小说是短篇小说的简化,但这并不意味着小小说就没有特殊的规定性和独立存在的依据。它简化了短篇小说的某些艺术手法,又突出了某些艺术手段,如明晰的故事线索等。同时,因为篇幅短小,它很难藏拙,比较容易趋于精致,即使作品水平不高,对读者时间的浪费也有限,是快节奏信息社会应当更为关注的一个文学品种。

对作者看法理解最准确的一项是( )。

- A. 小小说虽有自身局限,但不失为一种具有自身艺术手段,有一定关注性的文学品种
- B. 小小说与其他文学品种相比更具一定的创作优势
- C. 小小说并不是没有特殊规定性和独立存在依据的文学品种
- D. 小小说更应该被当今信息社会所关注

113. 日本、韩国等一些与中国临近的亚洲国家,其民族文化在形成过程中都不同程度地受到了汉文化的影响,同时汉文化当中也汇入了这些国家的民族文化成分。因此,尽管在现代文明中汉文化的内涵已不能覆盖所有亚洲东部国家各民族文化的内  
容,但仍不失为这一区域文化的典型代表。这段话直接论述的观点是( )。

- A. 日本、韩国等国家的文化曾受到汉文化很深的影响
- B. 汉文化当中也吸收了其他国家不同民族的文化成分
- C. 汉文化是亚洲东部诸国文化的一个典型代表
- D. 汉文化仍然是现代文明中的一个重要组成部分

114. 尽管他后来步入了哲学上悲观主义的路途,但这和他的生活状况是不相干的,而在现实世界中,他可以算是个幸运儿了。

这段话的主要意思是说( )。

- A. 尽管他的生活很不幸,但他在哲学上始终是幸运的
- B. 他在现实世界中的幸运反而导致了他在哲学上的悲观主义
- C. 他的生活景况虽然不佳,但在现实世界中依然是幸运的
- D. 在现实世界中,他的命运还是不错的

115. 建立社会保障制度的主要目的是为了较好地体现公平原则。但公平与效率之间存在矛盾。公平只能是相对的,特别是对我国这样一个发展中国家来说,经济发展水平还比较低,发展生产力,提高效率应放在第一位。只有生产力和生产效率提高了,才能更好地实现社会公平。

这段话主要支持的观点是( )。

- A. 生产力决定社会公平原则的实现程度
- B. 公平在任何国家都只能是相对的
- C. 我国经济发展水平较低,不应片面追求公平
- D. 只要经济发展水平上不去,就不能实现社会公平

第四部分结束,请继续做第五部分!

## 第五部分 资料分析

(共 20 题, 参考时限 20 分钟)

针对下列图、表或文字回答问题。你应根据资料提供的信息进行分析、比较、计算、处理。你可以在题本上运算。

【例题】根据下表, 回答①~②题:

博物馆四个入口处自动计数器的读数:

自动计数器在不同时间的读数 (人数)					
入口 (时间)	7:00	8:00	9:00	10:00	11:00
1	7111	7905	8342	8451	8485
2	8432	9013	9152	9237	9306
3	5555	5921	5989	6143	6233
4	954	1063	1121	1242	1299

①从早上 7:00 到 11:00 通过入口 1 进入博物馆的参观人数是 ( )。

A. 580                      B. 94                      C. 1374                      D. 1594

②在早上 7:00 到 8:00 之间, 通过人数最多的入口是 ( )。

A. 1                      B. 2                      C. 3                      D. 4

【解答】题①应为  $8485 - 7111 = 1374$ , 答案是 C;

题②比较两数之间的差, 差值最大的是入口 1 的两个数, 故答案是 A。

请开始答题:

得分	评卷人

(1) 根据下表回答 116 ~ 120 题

2003 年按企业性质分的进出口状况

金额单位: 亿美元

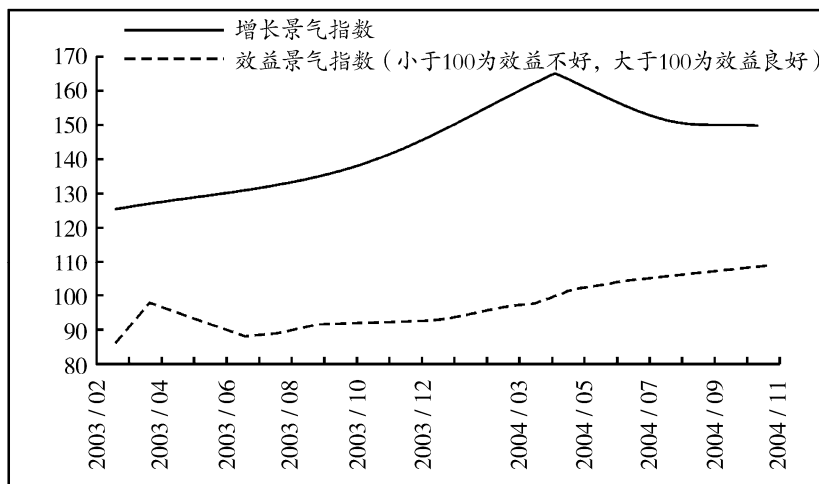
企业性质	出 口		进 口		顺差/逆差
	金 额	增长率 (%)	金 额	增长率 (%)	
国有企业	1380.3	12.4	1424.8	24.5	-44.5
外资企业	2403.4	41.4	2319.1	44.7	84.3
集体企业	251.3	33.3	132.4	39.7	118.9
私营企业	347.5	152.2	245.7	157.0	101.8

其他企业	1.2	-7.7	6.4	-55.3	-5.2
总 值	4383.7	34.6	4128.4	39.9	255.3

116. 2003 年我国外资企业出口额占全国企业出口总额的 ( )。
- A. 11.5%                                  B. 28.2%
- C. 54.8%                                  D. 56.1%
117. 2002 年我国国有企业进出口差额为多少亿美元? ( )
- A. 44.5                                      B. 83.6
- C. 133.4                                    D. 255.3
118. 下列说法错误的是 ( )。
- A. 私营企业发展势头迅猛, 进出口约 600 亿美元, 高于整体进出口增幅
- B. 外商投资企业是拉动中国出口增长的主体
- C. 2003 年其他企业的进出口值在整体进出口值的比例较 2002 年降低了
- D. 国有经济在我国经济体制中不再占有重要地位, 而略低于外资企业
119. 2002 年私营企业的进出口值占当年企业进出口总值的 ( )。
- A. 7.9%                                      B. 6.96%
- C. 42%                                        D. 3.8%
120. 2003 年外资企业进口年增长额比 2002 年集体企业进出口值的差额高出 ( )。
- A. 797.3 亿美元                            B. 526.7 亿美元
- C. 433.1 亿美元                            D. 75.3 亿美元

得分	评卷人

(2) 根据下图回答 121 ~ 125 题



121. 电子工业增长景气指数最高的年月份为 ( )。

- A. 2003/10                                  B. 2004/04  
C. 2004/05                                  D. 2004/11
122. 电子工业增长景气指数在 145 点以上的高景气运行的年份为 (     )。  
A. 2004/04 以后                                  B. 2004/11 以后  
C. 2003/10 以后                                  D. 2003/12 以后
123. 根据上图, 下列说法正确的是 (     )。  
A. 自 2003 年 2 月后, 电子工业增长景气指数呈持续走高趋势  
B. 2004 年 1~6 月份, 电子工业增长景气指数呈现“高位震荡”的发展趋势  
C. 自 2004 年 1 月份起, 电子工业增长景气指数呈上升态势  
D. 自 2004 年 4 月份后, 电子工业增长景气指数持续呈下降趋势
124. 我国电子工业效益摆脱低迷状况的分界点为 (     )。  
A. 2004/11    B. 2003/03  
C. 2004/04    D. 2003/12
125. 从上图可以推出的结论为 (     )。  
Ⅰ. 电子工业的增长景气曲线与效益景气曲线趋态一致  
Ⅱ. 2004 年电子工业经济效益呈现近几年最好的态势  
Ⅲ. 2004 年 4 月份景气指数在近两年来为最高点  
Ⅳ. 电子工业增长景气指数最高时, 效益景气不一定最好  
A. Ⅰ、Ⅲ    B. Ⅱ、Ⅲ、Ⅳ  
C. Ⅲ、Ⅳ    D. Ⅱ、Ⅳ

得分	评卷人

(3) 根据下段资料回答 126~130 题

某地区的全年财政收入完成 6.97 亿元, 完成年度计划的 110.6%, 按可比口径计算比上年增长 20.6%。其中营业税 2.89 亿元, 增长 18.9%, 占全区财政收入的 41.5%, 拉动财政收入增长 8 个百分点; 房产税 1.2 亿元, 增长 32.3%, 占全区财政收入的 17.2%, 拉动财政收入增长 5.1 个百分点; 增值税 0.75 亿元, 增长 3.2%, 占全区财政收入的 10.8%, 拉动财政收入增长 0.4 个百分点; 企业所得税 0.71 亿元, 增长 15.1%, 占全区财政收入的 10.2%, 拉动财政收入增长 1.6 个百分点; 其他科目合计 1.42 亿元, 增长 29.6%, 占全区财政收入的 20.3%, 拉动财政收入增长 5.5 个百分点。

126. 该地区去年的增值税为多少亿元? (     )  
A. 0.774    B. 0.727  
C. 0.726    D. 0.775
127. 营业税和企业所得税一共拉动财政收入增长了多少个百分点? (     )  
A. 9.6    B. 8  
C. 13.1    D. 8.4
128. 房产税占全区财政收入的比例增加了多少? (     )

密  
封  
线  
内  
不  
要  
答  
题



密

封

线

内

不

要

答

题

A. 2.0%

B. 1.8%

C. 1.6%

D. 1.5%

129. 全年财政收入的计划是多少亿元? ( )

A. 5.78

B. 6.03

C. 6.30

D. 6.45

130. 其他科目的财政收入增长了多少亿元? ( )

A. 0.420

B. 0.324

C. 0.368

D. 0.402

得分

评卷人

(4) 根据下表回答 131 ~ 135 题

2004 年全国主要机械产品产量统计表

指标名称	单位	累计	本月	比去年同期增长%	
				累计	本月
工业锅炉	蒸发量吨	118974.17	13210.91	7.58	-16.13
内燃机	万千瓦	39509.99	3505.29	24.84	27.18
金属切削机床	万台	35	3.78	36.32	48.56
电动工具	万台	13910.43	1410.4	14.88	-3.48
冶炼设备	吨	209260.2	19318.5	18.74	15.6
化工设备	吨	277137.9	27012.87	14.36	5.86
饲料加工机械	台	110350	11332	-7.69	-26.73
包装机械	台	55227	4675	-6.31	15.05
大中型拖拉机	台	91191	7828	87.4	132.7
小型拖拉机	万台	163.58	12.41	0.81	-8.96
大气污染防治设备	台(套)	113463	8178	31.23	-0.96
机车	万千瓦	297.39	38.38	7.72	94.57
民用钢质船舶	万综合吨	931.33	86.6	65.71	22.42
发电设备	万千瓦	6133.21	917.57	99.1	80.96
交流电动机	万千瓦	10163.3	1019.65	25.02	9.09

131. 下列对 2004 年 1 ~ 12 月份主要机械产品产量描述不正确的是 ( )。

A. 2004 年 1 月以来, 机械整体仍保持较高的增长速度

B. 小型拖拉机产量在 2004 年全年呈负增长趋势, 市场低迷

C. 大中型拖拉机市场的火爆, 反映出农民收入明显提高, 购买力增强

D. 2004 年饲料加工机械产量呈负增长趋势

132. 2003 年包装机械产量为 ( )。

- A. 58947 台  
C. 66038 台
- B. 56110 台  
D. 49831 台
133. 2004 年 12 月份, 化工设备产量较 2003 年同期增加多少吨? ( )  
A. 7823. 64  
C. 1495. 33  
B. 5287. 29  
D. 34799. 76
134. 2003 年 12 月份, 工业锅炉产量占 2003 年饲料加工机械产量的 ( )。  
A. 14. 2%  
C. 11. 0%  
B. 13. 2%  
D. 11. 9%
135. 下面哪项陈述可以从上表中得出? ( )  
I. 机车生产在 2004 年上半年增长率低甚至处于负增长态势  
II. 民用钢质船舶、发电设备在 2004 年呈成倍增长态势, 反映出全国煤电油运紧张  
III. 冶炼设备在 2004 年度, 前期增幅高, 后期猛跌  
A. 仅有 I  
C. 仅有 II、III  
B. 仅有 II  
D. 仅有 I、II

全部测验到此结束!

密

封

线

内

不

要

答

题